

Τυχαία μεταβλητή: Συνάρτηση με πεδίο ορισμού το θετικό ακέραιο ενός περάματος του πεδίο τιμών το \mathbb{R} .

Συμβολισμός: $X: \Omega \rightarrow \mathbb{R}$ και όταν των ορισμένη μεταβλητή μόνο τα αποτελέσματα.

πχ

Πίχνω ένα γάρι κερδίω τόσες χιλιάδες € όσες ο αριθμός που έφες

1 → 1000 x_1

2 → 2000 x_2

6 → 6000 x_6

$\Omega = \{ \omega_1, \omega_2, \dots, \omega_6 \}$

$X: \Omega \rightarrow \mathbb{R}$ με x_1, x_2, \dots, x_6

↳ εκφράζει πόσα λεφτά θα πάρω.

ω : αρχικά αποτελέσμα

x : αυσό που με ενδιαφέρει, που έχω αντιστοιχίσει.

Γενικά

1) $x_i =$ αριθμοί

2) Σε κάθε αποτέλεσμα του πειράματος αντιστοιχεί μόνο ένα x_i

πχ

Πίχνω ένα νόμισμα 3 φορές

$\omega_1 \ \omega_2 \ \omega_3 \ \omega_4 \ \omega_5 \ \omega_6 \ \omega_7 \ \omega_8$

$\Omega = \{ \Gamma\Gamma\Gamma, \Gamma\Gamma\kappa, \Gamma\kappa\Gamma, \kappa\kappa\Gamma, \kappa\Gamma\Gamma, \kappa\Gamma\kappa, \kappa\kappa\kappa, \Gamma\kappa\kappa \}$

Πόσες φορές μπορεί να έρθει κορώνα? $\{ 0, 1, 2, 3 \}$
 $x_1 \ x_2 \ x_3 \ x_4$

$X: \omega_1 \rightarrow 0 \ \omega_5 \rightarrow 1$

κόρες $\kappa \ \omega_2 \rightarrow 1 \ \omega_6 \rightarrow 2$

κόραυ $\omega_3 \rightarrow 1 \ \omega_7 \rightarrow 3$

$\omega_4 \rightarrow 2 \ \omega_8 \rightarrow 2$

Ενώ αρχικά ιδωθ να έχω ισοπλάσια ενδεχόμενα, στην αντιστοιχηση δεν είναι απαραίτητο να διατηρηθεί.

Τυχαία Μεταβλητή

Διακριτή

Αποτελέσματα είναι συγκεκριμένα
 & περιβλεπόμενα ως ένα από αόριστο.
 Τιμές τους είναι ένα πεπερασμένο
 ή άπειρο αριθμήσιμο σύνολο. Μπορώ
 λοιπόν να τα ανωένα ένα με το όνομα
 τους x_i αριθμώς παιδιών.

Συνεχής

Τα αποτελέσματα μπορεί να
 είναι οποιοδήποτε του μερο
 Οι τιμές είναι οτιδήποτε
 μέσα σε ένα διάστημα $[a, b]$
 $n \times$ ύψος, βάρος

Συνάρτηση Πιθανότητας της τυχαίας μεταβλητής X : ποια είναι οι πιθανότητες
 (Διακριτή) να γίνει αυτό που με ενδιαφέρει.

$n \times$ Πόσες κορίνες θα έρθουν αν ρίξω ένα νόμισμα τρεις φορές?

$$P(x=0) = \frac{1}{8}, \quad P(x=1) = \frac{3}{8}, \quad P(x=2) = \frac{3}{8}, \quad P(x=3) = \frac{1}{8}$$

\Downarrow \Downarrow \Downarrow \Downarrow
 P_1 P_2 P_3 P_4



Συνάρτηση πιθανότητας: $f: X \rightarrow \mathbb{R}$

$$f(x_i) = P(X=x_i) = P_i$$

x_i	0	1	2	3
P_i	1/8	3/8	3/8	1/8

$$X = \{x_1, x_2, x_3, x_4\} = \{0, 1, 2, 3\}$$

Συνάρτηση κατανομής πιθανότητας



Άρα $0 \leq P_i \leq 1$ και $\sum P_i = 1$

X : Διακριτή τυχία μεταβλητή.

Συνάρτηση πιθανότητας: $P_i = P(X=x_i) = f(x_i)$

Αθροιστική συνάρτηση πιθανότητας: $F(x_i) = P(X \leq x_i)$

πχ: $F(x_3) = P(X \leq x_3) = P(X=x_1) + P(X=x_2) + P(X=x_3) = p_1 + p_2 + p_3$

Με ενδιαφέρει η πιθανότητα μέχρι το συγκεκριμένο που θέλω.
(Μας αθροίζει όλες τις πιθανότητες μέχρι αυτή που με ενδιαφέρει)

πχ * Πίχτω ένα ζάρρι. Αν φέρω άρτιο κερδίζω 50€, αν φέρω 1 χάνω 10€, αν φέρω 5 χάνω 100€

$\Omega = \{1, 2, 3, 4, 5, 6\}$

X : κέρδος παίχτη

$x = \left\{ \begin{matrix} -100 & -10 & 50 \\ x_1 & x_2 & x_3 \end{matrix} \right\}$

1 \mapsto -10

2 \mapsto 50

3 \mapsto -10

4 \mapsto 50

5 \mapsto -100

6 \mapsto 50

x_i	P_i	F
-100 = x_3	1/6	1/6
-10 = x_2	2/6	3/6
50 = x_1	3/6	1

Ποια είναι η πιθανότητα να χάσω 10€ $P(X=-10) = P_2 = 2/6$

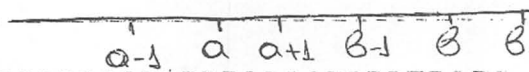
Ποια είναι η πιθανότητα να χάσω? $P(X < 0) = P_3 + P_2 = \frac{3}{6} = \frac{1}{2}$

↳ προσθέτω όλα όσα αυτιστοιχούν σε

ακριβώς 100: αυτή η πιθανότητα

<> : βρίσκω τα όρια και προσθέτω τις προηγούμενες

Ιδιότητες Αθροιστικής συνάρτησης πιθανότητας: Η πιθανότητα ότι χάσω να είναι μικρότερη ή ίση από 100 από τότε (αν δεν έχω ≤ πρέπει κατασκευάζω) $P(X \leq t)$



• $P(X < a) = P(X \leq a-1) = F$ στη θέση $a-1$

• $P(X > a) = 1 - P(X \leq a)$

• $P(X \geq a) = 1 - P(X \leq a-1)$

• $P(a \leq X \leq b) = 1 - P(X \leq a-1) - P(X > b+1) = 1 - P(X \leq a-1) - (1 - P(X \leq b))$

• $P(a < X < b) = 1 - P(X \leq a) - P(X \geq b) = 1 - P(X \leq a) - (1 - P(X \leq b-1))$

πx

Εξω X διαγράφει τυχόνια με βάση με συνάρτηση πιθανότητας

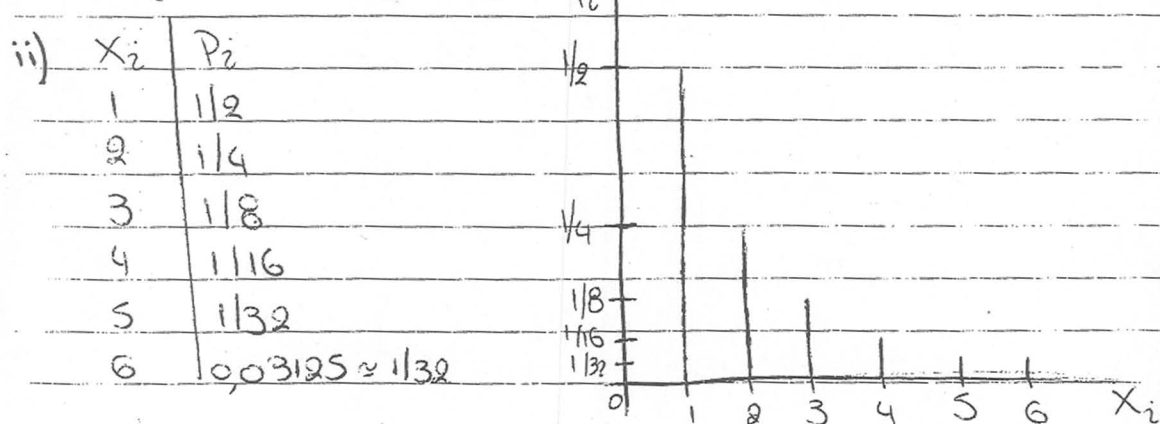
$$P(x=x) = \begin{cases} \left(\frac{1}{5}\right)^x, & x=1, 2, 3, 4, 5 \\ a, & x=6 \\ 0, & \text{για κάθε άλλο } x \end{cases}$$

i) Να βρεθεί ο α

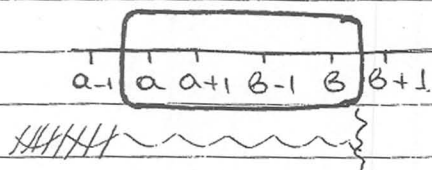
ii) Να γίνει τυχόνια κατανομή πιθανότητας στο αριστοκό διαμέτρη

Λύση

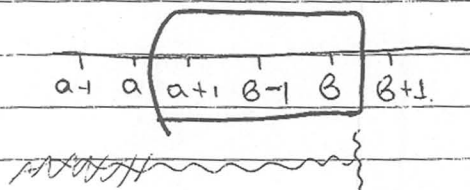
i) $\frac{1}{5} + \left(\frac{1}{5}\right)^2 + \frac{1}{8} + \frac{1}{16} + \frac{1}{32} + a = 1 \Rightarrow a = 0,03125$



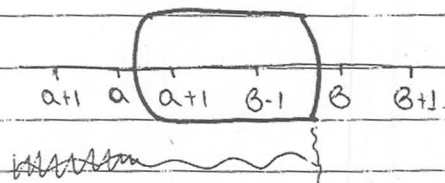
$$P(a \leq x \leq b) = P(x \leq b) - P(x \leq a-1)$$



$$P(a < x \leq b) = P(x \leq b) - P(x \leq a)$$



$$P(a < x < b) = P(x \leq b-1) - P(x \leq a)$$



Άσκηση

Δίνονται ομοιόμορφα κατανομή πιθανότητας

x_i	P_i	F	Να βρεθούν οι πιθανότητες
0	1/6	1/6	i) $P(x \leq 1) = F_1 = 1/3$
1	1/6	1/3	ii) $P(1 \leq x \leq 3) = F_3 - F_0 = \frac{17}{24} - \frac{1}{6} = \frac{13}{24}$
2	1/8	11/24	
3	1/4	17/24	iii) $P(x \geq 0) = 1 - F_1 = 1 - \frac{1}{3} = \frac{2}{3}$
4	7/24	1	

Αναμενόμενη τιμή της X ή αριθμητικός μέσος πιθανοφόρου είναι ένας αριθμός που εκφράζει το μέσο όρο των τιμών που θα βρεθούν εάν κάναμε κάποια πολλά υπολογισμούς

Συμβολισμός $E(x) = x_1 \cdot P_1 + x_2 \cdot P_2 + \dots + x_c \cdot P_c$ (μέση τιμή)

Παρατήρηση Το $E(x)$ δεν είναι υποχρεωτικά κάποια τιμή της

πχ *

Ποιο είναι το αναμενόμενο κέρδος του παίκτη?

x_i	P_i	$x_i \cdot P_i$
-100	1/6	-100/6
-10	2/6	-20/6
50	3/6	150/6
Σύνολο		30/6

$E(x) = \frac{30}{6} = 5 \text{ €}$

Ιδιότητες Αναμενόμενης τιμής

• $E(a \cdot X + b) = a \cdot E(x) + b$

• $E(a) = a$

Αν γέρω $E(x)$ και ψάχνω σε ένα άλλο που ευδοκίμα γράφω κάτω αυτιστάσταθ

Διακρίμανση της X

- Υπολογίζω τη μεταβλητή x^2 (τα x_i υπάρχουν στο τετράγωνο με ίδιες πιθανότητες P_i)
- Βρίσκω την αναμενόμενη τιμή της x^2
$$E(x^2) = x_1^2 \cdot p_1 + x_2^2 \cdot p_2 + \dots + x_n^2 \cdot p_n$$
- Η διακρίμανση της X = $E(x^2) - [E(x)]^2 = V(x)$

$$\text{ωπική απόκλιση} = \sqrt{\text{Διακρίμανσης}}$$

Ιδιότητες Διακρίμανσης

- $V(a) = 0$
- $V(a \cdot X + b) = a^2 \cdot V(x)$

πχ

Ο μέσος όρος των μηνιαίων πωλήσεων ενός καταστήματος είναι 25.000 με ωπική απόκλιση 4000. Αν το μηνιαίο κέρδος είναι το 30% των εσόδων μείον 6.000 € σταθερά κόστη, να βρεθεί το αναμενόμενο κέρδος και η ωπική απόκλιση του κέρδους

Λύση

X πωλήσεις (έσοδα)

$$E(x) = 25.000$$

$$V(x) = (\text{ωπική απόκλιση})^2 = 4000^2 = 16.000.000$$

$$Y = \text{κέρδος} = 0,3 \cdot X - 6.000$$

$$\text{Άρα } E(Y) = E(0,3 \cdot X - 6.000) = 0,3 E(x) - 6000 = 0,3 \cdot 25.000 - 6.000$$

$$V(Y) = V(0,3X - 6.000) = 0,3^2 \cdot V(x) = 0,09 \cdot 16.000.000 = 1.440.000$$

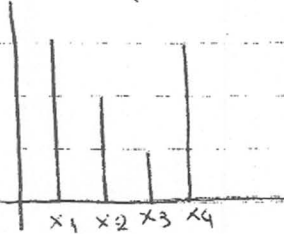
Άρα η ωπική απόκλιση του Y είναι 1200

X Διακριτή τυχαία μεταβλητή

- Συνάρτηση πυκνότητας

$$f(x_i) = P(x = x_i)$$

γραφική παράσταση



ιδιότητες

$$0 \leq f(x_i) \leq 1$$

$\sum f(x_i) = 1$ → γιατί γραφική παράσταση κάποιου αθροίσματος που κάνει 1.

- Αθροιστική συνάρτηση

$$F(x_i) = P(x \leq x_i)$$

X συνεχής τυχαία μεταβλητή

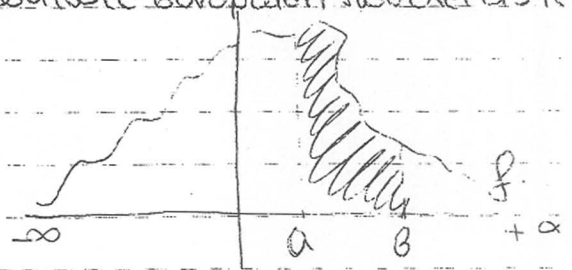
$P(x = x_i) = 0$ εφέγω ας αν ισχύει, δηλαδή διακρίματα και ο συνεχής τύπος.

Συνάρτηση πυκνότητας καλείται ομοειδώς με συνάρτηση συνεχούς f

i) $f(x) \geq 0$


ii) $\int_{-\infty}^{+\infty} f(x) dx = 1$

iii) $P(a \leq x \leq b) = \text{εμβαδόν} = \int_a^b f(x) dx$



Αθροιστική

$$F(a) = P(x \leq a) = \text{εμβαδόν} = \int_{-\infty}^a f(x) dx$$




Ιδιότητες

• $0 \leq F(x) \leq 1$

• $P(a \leq x \leq b) = F(b) - F(a)$ → εφόσον βεβαιώσω και εφόσον τι γίνεται ο -infinity μέχρι ένα βητικό

• $P(x \geq a) = 1 - F(a)$



$n \times$

$P(X \leq 4) = F(4)$

$P(X > 2) = 1 - F(2)$

$P(4 \leq X \leq 12) = F(12) - F(4)$

Αν δώσουμε ύπαρξη και ισότητα στις συνθήκες, δεν υπάρχει διαφορά, γιατί στη συνεχή μεταβλητή η πιθανότητα να είναι μια συγκεκριμένη τιμή είναι 0.

Έχω διαφορετικούς τύπους για κάθε περίπτωση ($n \times$ χιλιάδες - αποτελέσματα). Υπάρχουν κατανομές που κείνται σχεδόν όλες τις περιπτώσεις.

Πρόβλημα $\xrightarrow{\text{απειροστικά}}$ θεωρητική κατανομή \rightarrow τύποι με στοιχεία αποτελέσματος
Ένα μοντέλο που αποκατά τις πιθανότητες και αυξάνει σε διάφορες αρχικές καταστάσεις

Κατανομές

- Διωνομική (και κατανομή Bernoulli)
 - Poisson
 - Γαουσιανή
- Διακριτές
- Συνεχής

Κατανομή Bernoulli: Όταν έχω μια κατάσταση (πείρα) που έχει μόνο δύο αποτελέσματα (σε περισσότερα δειγματοληψία) και γίνεται μόνο μία φορά. Τα αποτελέσματα συνήθως ονομάζονται επιτυχία-αποτυχία και συμβολίζονται επιτυχία $\rightarrow 1$, αποτυχία $\rightarrow 0$.

- p_{X1} νόμισμα: κορώνα ή γρένα
- p_{X2} Ισοδοχημένος εταπρίας $\left\{ \begin{array}{l} \text{κέρδος} \\ \text{ζημία} \end{array} \right.$
- p_{X3} πρόβλημα πρόβλεψης $\left\{ \begin{array}{l} \text{πρόβλεψη} \\ \text{οχι} \end{array} \right.$

Συμβολισμός πιθανότητας να συμβούν: επιτυχία $\rightarrow p$
αποτυχία $\rightarrow q$

<u>Ισχύει:</u>	$0 \leq p \leq 1$	<u>Τύπος</u>	X_i	\prod Πιθανότητα
	$0 \leq q \leq 1$		1	p
	$p+q=1$		0	q

Συνάρτηση: $f(x) = P(X=x) = p^x \cdot q^{1-x}$

Μέση τιμή: $E(x) = p$ Απόδειξη: $E(x) = 1 \cdot p + 0 \cdot q = p$

Διασπορά: $V(x) = p \cdot q$

Διωνομική κατανομή Binomial

- Έχουμε n δοκιμές Bernoulli (ένα πράγμα που έχει δύο μόνον αποτελέσματα, γίνεται πολλές φορές)
- Για κάθε φορά ισχύει $p = \text{πιθανότητα επιτυχίας}$
 $q = 1 - p = \text{πιθανότητα αποτυχίας}$
- Κάθε φορά επανάληψης είναι ανεξάρτητη από τις άλλες.

X : πότες επιτυχίες έχουμε δηλ $x = 0, 1, 2, 3, \dots, n$
και $P(X=x) = \binom{n}{x} p^x (1-p)^{n-x}$

Συμβολισμός $B(n, p) \rightarrow$ πιθανότητα επιτυχίας κάθε φορά
 \hookrightarrow αριθμός επαναλήψεων

Μέση τιμή $E(x) = n \cdot p$

Διασπορά $V(x) = n \cdot p \cdot q$

Παράτησή: Αυτά ισχύουν για $p > 0,1$ (10%) και $n < 50$

Παράδειγμα

Έχουμε ένα διαγωνισμό ποδηλασίας επιλογής με 10 ερωτήσεις κάθε ερώτηση έχει 3 απαντήσεις, από τις οποίες μία είναι η σωστή. Ένας φοιτητής μπαίνει σε εστίασμα εκτελείς αδιάβατος. Να βρούμε:

- των πιθανοτήτων να μπει σωστά σε κάποια ερώτηση
- των πιθανοτήτων να απαντήσει σωστά 2 ερωτήσεις
- των πιθανοτήτων να κερδίσει.

Λύση

10 ερωτήσεις \rightarrow μια ερώτηση / απαντάει σωστά (επιτυχία), $p = \frac{1}{3}$
 n \parallel απαντάει λάθος (αποτυχία), $q = \frac{2}{3}$

Ακολουθεί $B(10, \frac{1}{3})$

X : αριθμός επιτυχιών

$$i) P(X=0) = \binom{10}{0} \left(\frac{1}{3}\right)^0 \cdot \left(\frac{2}{3}\right)^{10} = 1 \cdot 1 \cdot \left(\frac{2}{3}\right)^{10} = 0,00003$$

$$ii) P(X=2) = \binom{10}{2} \left(\frac{1}{3}\right)^2 \cdot \left(\frac{2}{3}\right)^8 = \frac{10!}{2!8!} \cdot \frac{1}{3^2} \cdot \frac{2^8}{3^8} = \frac{9 \cdot 10}{2} \cdot \frac{2^8}{3^{10}} = 0,195 \approx 20\%$$

$$iii) P(\text{να αποτύχει}) = P(X \leq 4) = P(X=0) + P(X=1) + P(X=2) + P(X=3) + P(X=4) \approx$$

Κατανομή Poisson

Εφαρμόζεται

- Εάν έχουμε προιλοδίες διωνυμική, αλλά p πολύ μικρό ή n πολύ μεγάλο \Rightarrow γραμμική παραγωγή κατανομής ποσειδωνικής αυξάνεται
- Εάν έχουμε θανάτια γεγονότα που να εγείρουν συγκεκριμένα χρονικά διαστήματα \Rightarrow δολοφονία τον Οκτώβριο στην Πάτρα, λιποθυμία στις εστιαίες
ένα κατάστημα να πουλήσει όλα τα προϊόντα σε μια εβδομάδα

X : αριθμός επιτυχιών

λ : μέσος όρος των επιτυχιών για συγκεκριμένο χρονικό διάστημα

$$P(X=x) = e^{-\lambda} \frac{\lambda^x}{x!}$$

Παραδείγματα

① Δέμα πόδη διαπράττονται κατά μέσο όρο 5 δολοφονίες το μήνα. Να βρεθεί η πιθανότητα το Φεβρουάριο να γίνουν 4 δολοφονίες

Λύση


$$P(X=4) = e^{-5} \frac{5^4}{4!} = 0,175 \approx 17,5\%$$

$$P(X=0) = e^{-5} \frac{5^0}{0!} = e^{-5} = 0,000 \dots \text{η πιθανότητα να μην γίνει καμία δολοφονία}$$

②

Μια εταιρία κατασκευάζει λάμπες. Η πιθανότητα μια λάμπα να είναι ελαττωματική είναι 0,001. Κάνουμε μια δοκιμή στη γραμμή παραγωγής και εγείρουμε 500 λάμπες. Ποια είναι η πιθανότητα να βρούμε 7 ελαττωματικές λάμπες?

Λύση



Άρα καταμετρούμε Poisson

$$\lambda = \text{μέσος όρος} = \text{μέση τιμή} = n \cdot p = 500 \cdot 0,001 = 0,5$$

$$\frac{500 \text{ λάμπες}}{n} \quad P(X=7) = e^{-0,5} \frac{0,5^7}{7!} = \text{μικρό}$$

~~505~~ κανονική κατανομή

Συνεχής αλκία μεταβάλλει για την οποία πάντα γέρωσει μέσος
 $-\infty < \mu \leq +\infty$ και ωκυ απόκλιση $\sigma, \sigma > 0$

Άρα μ προσδιορίζεται δεξιά. Αν

$\mu > 0$: θετικά

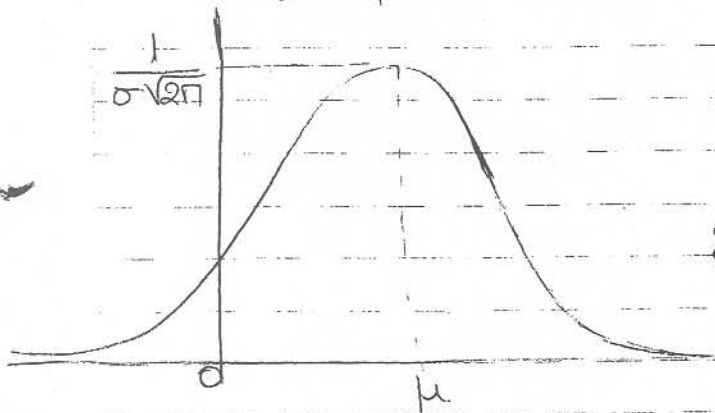
$\mu < 0$: αρνητικά

$\mu = 0$: κέντρο αξόνων, άρα συμμετρική.

σ : προσδιορίζεται ύψος

$\uparrow \sigma$: χαμηλή κορυφή

$\downarrow \sigma$: ψηλή κορυφή



Συνάρτηση $f(x) = \frac{1}{\sigma\sqrt{2\pi}} \cdot e^{-\frac{1}{2}\left(\frac{x-\mu}{\sigma}\right)^2}$

Συμβολισμός

$N(\mu, \sigma^2)$

↳ διασπορά

ΟΧΙ τεταγμένη

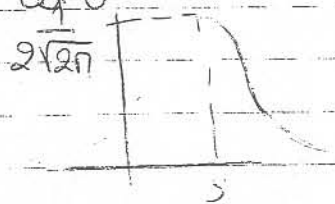
Ουσιαστικά έχω άπειρες τέτοιες κανονικές κατανομές, ανάλογα

α είναι το μ και το σ

π.χ $N(3, 4)$

$\mu = 3$

$\sigma = 2$



Ιδιότητες (κοινές για όλες τις κατανομές)

1) Μπορούν να κλιμακωθούν

2) Συμμετρικές ως προς την κατακόρυφη αχρία που διέρχεται απ' το μ

3) Εμβαδό κάτω απ' την κορυφή = 1 (αυτομάτως απ' τον ορισμό της κορυφής. Η θέση της κορυφής καθορίζει πόσο πιθανά ή λιγότερο είναι η

4) $E = P(\mu - \sigma \leq x \leq \mu + \sigma) = 0,68$


$(\mu - 2\sigma \leq x \leq \mu + 2\sigma) = 0,954$

$(\mu - 3\sigma \leq x \leq \mu + 3\sigma) = 0,997$



Παρατήρηση

Για να υπολογίσω πιθανότητες για οποιαδήποτε κανονική κατανομή χρησιμοποιώ τους πίνακες τυποποιημένης κανονικής κατανομής $N(0,1)$. Ο πίνακας δείχνει την αβραβική πιθανότητα, δηλαδή την $P(x \leq a)$



Η $N(0,1)$ συμβολίζεται με Z

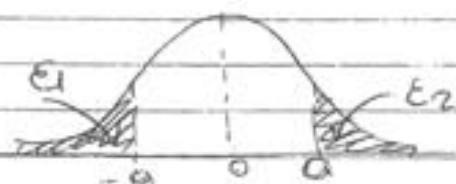
$$P(Z \leq 1,25) = 0,89435$$

$$P(Z \leq 0,17) = 0,56749$$

$$P(Z \leq 1,7) = 0,95543$$

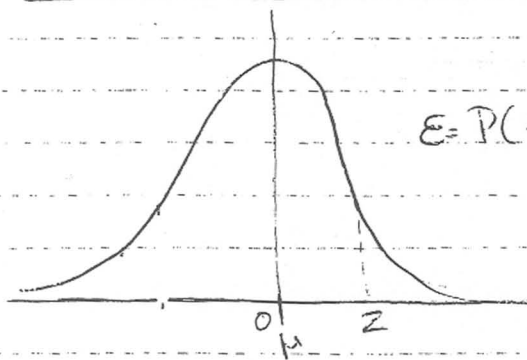
$$P(Z \leq -1,13) = P(Z \geq 1,13) = 1 - P(Z \leq 1,13) = 1 - 0,87086 = 0,12914$$

$$P(Z < -a) = \epsilon_1 = \epsilon_2 \text{ (δύο συμμετρίες)} = P(Z > a) = 1 - P(Z \leq a)$$



$$P(1,3 \leq Z \leq 2,41) = P(Z \leq 2,41) - P(Z \leq 1,3) = 0,99202 - 0,90320$$



ΤΥΠΟΠΟΙΗΜΕΝΗ ΚΑΝΟΝΙΚΗ ΚΑΤΑΝΟΜΗ $N(0,1)$ 

$E = P(x \leq z) \Rightarrow$ αναφοράς από τον πίνακα

"Μια κανονική κατανομή $N(\mu, \sigma^2)$ να την μετατρέψουμε στην μέση, άρα να χρησιμοποιούμε πίνακες για τους υπολογισμούς."

Πχ

Μια τυχαία μεταβλητή X ακολουθεί κανονική κατανομή με μέση $\mu=10$ και διασπορά $\sigma^2=16$. Να βρεθεί $P(x \leq 15)$.

Λύση

α' τρόπος

$$\mu=10, \sigma=4 \quad P(x \leq 15) = \int_{-\infty}^{15} \frac{1}{\sigma\sqrt{2\pi}} e^{-\frac{1}{2}\left(\frac{x-\mu}{\sigma}\right)^2}$$

$$f(x) = \frac{1}{\sigma\sqrt{2\pi}} \cdot e$$

Δα είναι εύκολο και είναι δύσκολο υπολογισμός.

β' τρόπος

Αν θέσουμε $\frac{x-\mu}{\sigma} = z$ τότε η κανονική κατανομή που έχει αντιστοιχεί στην $N(0,1)$ και βρίσκω την πιθανότητα από τον

$$\left(\text{θα φτιάξουμε } \frac{x-\mu}{\sigma} = \frac{x-10}{4} \right)$$

$$P(x \leq 15) = P\left(\frac{x-10}{4} \leq \frac{15-10}{4}\right) =$$

$$= P(z \leq 1,25)$$

$$= 0,89435$$

$$\approx 89\%$$

Παράδειγμα 1

Μια εταιρία κατασκευής μπαταριών με τις προδιαγραφές οφέους χρόνου ζωής της μπαταρίας σε κατάσταση ανηλικονόσ να είναι 191 ώρες και σπαιή απόδωση 5 ώρες, δίδειν απόδωση των $N(191, 25)$. Να βρεθου:

- η πιθανότητα μια μπαταρία να διαρκέσει λιγότερα από 180 ώρες
- η πιθανότητα μια μπαταρία να διαρκέσει περισσότερο από 195 ώρες
- η πιθανότητα μια μπαταρία να διαρκέσει μεταξύ 180 και 195 ωρών

Λύση

$$\mu = 191 \quad \text{όρα θα προσημετοποιώ} \quad \frac{x - \mu}{\sigma} = \frac{x - 191}{5} = z$$

$$\sigma = 5$$

$$\sigma^2 = 25$$

$$i) P(x \leq 180) = P\left(\frac{x - 191}{5} \leq \frac{180 - 191}{5}\right)$$

$$= P(z \leq -2,2) = P(z \geq 2,2) = 1 - P(z \leq 2,2) =$$

$$= 1 - 0,98610 = 0,0139 \approx 1,3\%$$

$$ii) P(x \geq 195) = 1 - P(x \leq 195) = 1 - P\left(\frac{x - 191}{5} \leq \frac{195 - 191}{5}\right) =$$

$$= 1 - P\left(z \leq \frac{4}{5}\right) = 1 - P(z \leq 0,8)$$

$$= 1 - 0,78814 = 0,21186 \approx 21,1\%$$

$$iii) P(180 < x < 195) = P(x < 195) - P(x < 180) =$$

$$= 0,78814 - 0,0139 =$$

$$= 0,77424 \approx 77,4\%$$

Παράδειγμα 2

Η βαθμολογία σε κάποιες εξετάσεις ακολουθεί κανονική κατανομή $N(550, 900)$. Να βρεθεί η πιθανότητα ένας φοιτητής να περάσει.

Λύση

$$\mu = 550$$

$$\sigma^2 = 900$$

$$\sigma = \sqrt{900} = 30$$

$$P(x \geq 500) = P\left(\frac{x - 550}{30} \geq \frac{500 - 550}{30}\right) =$$

$$= P(z \geq -\frac{5}{3}) = P(z \geq -1,66) = 1 - P(z \geq 1,66) =$$

$$= 1 - (1 - P(z \leq 1,66)) = P(z \leq 1,66) =$$

$$= 0,95154 \approx 95\%$$

Δειγματοληψία

	πληθυσμός	τυχαίο δείγμα
συμβολισμός	N	n
μέση τιμή	μ	\bar{x}
διασπορά	σ^2	S^2
τυπική απόκλιση	σ	S

Βασικά Προβλήματα Δειγματοληψίας

- i) Αν γνωρίζουμε ένα μέγεθος του πληθυσμού μπορούμε να βρούμε τι θα συμβαίνει σε ένα τυχαίο δείγμα του?
- ii) Γνωρίζοντας τι θα συμβαίνει σε ένα δείγμα του πληθυσμού μπορεί να γίνει εκτίμηση πως θα συμπεριφερθεί ολόκληρος ο πληθυσμός?

Μέθοδοι Νόησης

- να αναπτύξουμε με ειδικότητα
- να δώσουμε απάντηση με διάστημα εμπιστοσύνης
- να απαντήσω με έλεγχο υποθέσεων

κανονική κατανομή πληθυσμού: δείχνει πως συμπεριφέρεται όλος ο πληθυσμός
 κανονική κατανομή τυχαίου δείγματος: δείχνει πως συμπεριφέρεται ένα δείγμα
 Δειγματική κατανομή: δείχνει πως συμπεριφέρονται όλα τα δείγματα

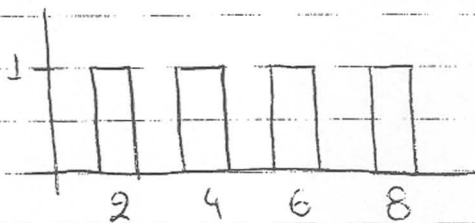
Πχ

Έχουμε ένα πληθυσμό με $N=4$ άτομα με στοιχεία: 2, 4, 6, 8 και με ενδ. αφέρν ο μέσος όρος

i) κατανομή του πληθυσμού

$$\mu = \frac{2+4+6+8}{4} = \frac{20}{4} = 5$$

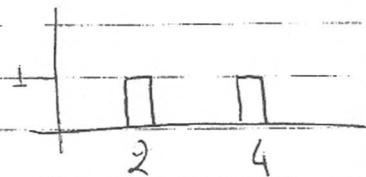
$$\sigma^2 = 3$$



ii) Ένα δείγμα ατόμων το {2, 4}

να γίνει κατανομή δείγματος

$$\bar{x} = \frac{2+4}{2} = \frac{6}{2} = 3$$

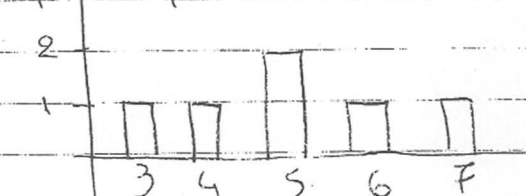


iii) Δειγματική κατανομή παίρνουμε όλα τα δείγματα δύο ατόμων και θα ε

Δείγματα
 (2, 4)
 (2, 6)
 (2, 8)
 (4, 6)
 (4, 8)
 (6, 8)

Χαρακτηριστικά

το μέσο όρο



Η τυπική απόκλιση $\sigma_{\bar{x}}$ της δειγματικής κατανομής ονομάζεται τυπικό σφάλμα του μέσου (standard error of mean), μας δείχνει πόσο καλά ο δειγματικός μέσος \bar{x} προσεγγίζει τον πραγματικό μέσο όρο.

Πρόβλημα: "Γνωρίζουμε πως συμπεριφέρεται ένας πληθυσμός και πάχυνται α συμπεριβα σε ένα τυχαίο δείγμα"

Θεώρημα

Κεντρικό Οριακό Θεώρημα (ΚΟΘ)

1) Αν ένας πληθυσμός ακολουθεί την κατανομή $N(\mu, \sigma^2)$ τότε η δειγματική κατανομή του μέσου \bar{x} για δείγμα μεγέθους n προσεγγίζει την κανονική κατανομή με μέσο των ίδιο $\mu_{\bar{x}} = \mu$ και $\sigma_{\bar{x}} = \frac{\sigma}{\sqrt{n}}$

2) Αν δα γέρουμε τι κατανομή ακολουθεί ο αρχικός πληθυσμός αλλά το δείγμα είναι μεγάλο τότε η δειγματική κατανομή του μέσου \bar{x} για δείγμα μεγέθους n προσεγγίζει την κανονική κατανομή με μέσο των ίδιο $\mu_{\bar{x}} = \mu$ και $\sigma_{\bar{x}} = \frac{\sigma}{\sqrt{n}}$

3) Αν γνωρίζουμε ότι ο πληθυσμός ακολουθεί κανονική κατανομή με μέσο μ αλλά δα γέρουμε τι διασπορά, η δειγματική κατανομή του μέσου προσεγγίζει την t -κατανομή.

Πρόβλημα ①

Οι βαθμοί σε ένα test ακολουθούν κανονική κατανομή με $\mu = 500$ και την απόκλιση $\sigma = 100$. Αν πάρουμε ένα τυχαίο δείγμα 25 ατόμων, ποια είναι η πιθανότητα η μέση τιμή του δείγματος να είναι πάνω από 540?

Απάντηση

πληθυσμός $N(500, 100^2)$. Άρα η δειγματική κατανομή του μέσου ακολουθεί κανονική κατανομή με $\mu_{\bar{x}} = 500$ και $\sigma_{\bar{x}} = \frac{\sigma}{\sqrt{n}} = \frac{100}{5} = 20$

$$P(\bar{x} > 540) = P\left(\frac{\bar{x} - 500}{20} > \frac{540 - 500}{20}\right) = P(Z > 2) =$$

$$= 1 - P(Z < 2) = 1 - 0,97725 =$$

$$= 0,02275$$

Πρόβλημα 2

Η ημερήσια παραγωγή ενός εργοστασίου έχει $\mu = 60$ και $\sigma = 8$

- i) Σε ένα δείγμα 4 ημερών νόση είναι η πιθανότητα η μέση τιμή να να μεγαλύτερη
- ii) Σε ένα δείγμα 64 ημερών νόση είναι η πιθανότητα η μέση τιμή να να μικρότερη από 62

Λύση

i) Πληθυσμός $\mu = 60$ $\sigma = 8$

Δείγμα, 4 ημερών (μικρό), και επειδή θα χρησιμοποιήσουμε τη κανονική κατανομή, δίνω ερωτηματικό, δίνω ερωτηματικό

ii) Δείγμα 64 ημερών (μεγάλο), άρα από ΚΘΘ πιθανοκρατική κατανομή μέσου αποτελούμε κανονική κατανομή με $\mu_x = 60$ και $\sigma_x = \frac{8}{\sqrt{64}} = \frac{8}{8} = 1$

$$P(\bar{x} < 62) = P\left(\frac{\bar{x} - 60}{1} < \frac{62 - 60}{1}\right) = P(z < 2) = 0,97725 \approx 97,7\%$$

Πρόβλημα 3

Το ύψος των μαθητών ακολουθεί κανονική κατανομή με μέση τιμή 160. Ένα τυχαίο δείγμα 15 μαθητών έχει τυπική απόκλιση $s = 10$ cm. Να βρεθεί η πιθανότητα το μέσο ύψος των μαθητών του δείγματος να είναι τυπικά 160

Λύση

$N(\mu = 160, \sigma = 10)$

Όχι η δειγματική κατανομή του μέσου ακολουθεί την t -κατανομή

$s = 10$

$$\text{β. ελ.} = n - 1 = 15 - 1 = 14$$

$\mu = 160$

$$\frac{s}{\sqrt{n}} = \frac{10}{\sqrt{15}} = 2,58$$

$$P(\bar{x} < 165) = P\left(\frac{\bar{x} - 160}{2,58} < \frac{165 - 160}{2,58}\right) = P(t < 1,94)$$

= ανάμεσα στο 97,5% και 98,75%

t -κατανομή.
Στιγμιαία απόκλιση s
βαθμοί ελευθερίας = ν
 $\frac{\bar{x} - \mu}{\frac{s}{\sqrt{n}}}$ ακολουθεί t
κατανομή
βαθμούς ελ.

Τυπική t -κατανομή \rightarrow 14 β. ελ. \rightarrow Το 1,94 βρίσκεται ανάμεσα στο 1,761 και 2,145 που αντιστοιχούν στο 5 και 6 στα 25.

Ανατρέψτε με πιθανότητα δηλαδή στο

$$2,145 = \frac{25}{2} = 12,5\%$$

$$1,761 = \frac{5}{2} = 2,5\%$$

Άρα βρίσκεται ανάμεσα στο

$$100\% - 12,5\% = 87,5\%$$

$$\text{και στο } 100\% - 2,5\% = 97,5\%$$

Άσκηση για σπίτι

Η ελπίδα των μηδενικών στα μηδενικά ασφαλή κοινωνικά καταναλωτές είναι 80. Τα πρώτα 20 άτομα να βρεθεί η πιθανότητα ο μέσος όρος του δείγματος να είναι μικρότερη από 82 αν η πραγματική αναμενόμενη του δείγματος είναι 5 μονάδες.

Λύση

Αντικείμενο: κανονική κατανομή, $\mu = 80$, $\sigma^2 = 5$

$$\text{Τύπος: } n = 20, S = 5 \quad \frac{S}{\sqrt{n}} = \frac{5}{\sqrt{20}} = 1,11$$

Από τα χαρακτηριστικά της t-κατανομής με $20 - 1 = 19$ βαθμούς ελευθερίας


$$P(X \leq 82) = P\left(\frac{\bar{X} - \mu}{\frac{S}{\sqrt{n}}} \leq \frac{82 - 80}{1,11}\right) = P\left(\frac{\bar{X} - 80}{1,11} \leq \frac{2}{1,11}\right) = P(T \leq 1,8)$$

είναι ανάμεσα στο $\alpha = 0,05$ και στο $\alpha = 0,025$

$$\frac{\alpha}{2} = 0,025 \quad \frac{\alpha}{2} = 0,0125$$

από τον πίνακα απάρετα στο $1 - 0,025 = 0,975$ ή $0,5$ και στο $1 - 0,0125 = 0,9875$ ή $0,9875$

Πίνακας



$t_{0,025} = 1,729$ Τι σημαίνει? Είναι χαρακτηριστικό του δείγματος να είναι μικρότερο από 82 αν η πραγματική αναμενόμενη του δείγματος είναι 80. Για να βρω την αναμενόμενη για μικρότερο από 82 τότε η αναμενόμενη είναι $1 - \frac{\alpha}{2}$

Σημειώσεις

$$t_{0,025} = 1,729 \Rightarrow P = \frac{\alpha}{2} = 0,025/2$$

$$t_{0,0125} = 2,093 \Rightarrow P = \frac{\alpha}{2} = 0,025/2$$

$$1,729 \quad 1,8 \quad 2,093$$

$P(T \leq 1,8)$ είναι ανάμεσα στο $\frac{0,05}{2}$ και στο $\frac{0,025}{2}$

$$P(T \leq 1,8) = 1 - \frac{0,05}{2} \text{ και } 1 - \frac{0,025}{2}$$

Κατηγορίες

① Ζέρουμε βραχεία για ολόκληρο τον πληθυσμό και ψάχνουμε τι θα συμβαίνει σε ένα τυχαίο δείγμα και συγκεκριμένα τι θα συμβαίνει με τι μέση τιμή.

Τότε: Χρησιμοποιούμε δειγματική κατανομή του μέσου

→ Είναι κάτι που θα μπορούσε να συμβαίνει σε ένα μικρό κομμάτι αν ήμουν ο πληθυσμός.

πχ: Ζέρουμε τα ποσοστά των κομμωτών στις εθνικές. Μπορώ να βρω τι θα γίνει εθνικές σου ΤΕΙ της Κέρκυρας?

πχ: Μετράμε τις αμμήνες κινήσεων μέσω εταιρίες σε όλη την Ελλάδα. Τι γίνεται στα καταστήματα της Αχαΐας?

Ανάλογα με τα δεδομένα έχουμε 3 τρόπους επίλυσης

- (ΚΟΘ): Αν ο πληθυσμός ακολουθεί κανονική κατανομή με μέση τιμή μ και διασπορά σ^2 τότε η δειγματική κατανομή του μέσου ακολουθεί κανονική κατανομή με μέσο μ και διασπορά $\frac{\sigma^2}{n}$ όπου $n = \text{μέγεθος δείγματος}$.
- (ΚΘ): Αν δώσουμε τι κατανομή ακολουθεί ο πληθυσμός αλλά το δείγμα είναι μεγάλο (εφαρμόζεται ο νόμος του κεντρικού ορίου, δηλαδή ανάλογα μετράμε) τότε ισχύει το προηγούμενο, δηλαδή το δείγμα ακολουθεί κανονική κατανομή με μέσο μ και διασπορά $\frac{\sigma^2}{n}$.
- Αν ο πληθυσμός ακολουθεί κανονική κατανομή με μέση τιμή μ και αγνωστού διασπορά τότε θα χρησιμοποιήσουμε τη διασπορά S^2 του δείγματος. Η δειγματική κατανομή του μέσου ακολουθεί των t -κρίσι με $n-1$ βαθμούς ελευθερίας συγκεκριμένα $\frac{\bar{x} - \mu}{\frac{S}{\sqrt{n}}} \sim t_{n-1}$

Άσκηση

κατά το κανονικό Z .

Ζέρουμε ότι το IQ ακολουθεί κανονική κατανομή με μέση τιμή 100 και τυπική απόκλιση 15. Έχουμε ένα τυχαίο δείγμα 100 ατόμων. Να βρούμε πιθανότητα η μέση τιμή του δείγματος να είναι μικρότερη του 90.


Απάντηση

πληθυσμός: κανονική κατανομή με $\mu = 100$, $\sigma = 15 \Rightarrow \sigma^2 = 15^2 = 225$
 Ψάχνω για ένα δείγμα, ακολουθεί δειγματική κατανομή $\mu_{\bar{x}} = 100$, $\sigma_{\bar{x}}^2 = \frac{15^2}{100} = \frac{15}{10}$ (ήδη δος)
 μετατροπή σε Z με $\frac{\bar{x} - \mu}{\sigma}$
 $P(\bar{x} < 90) = P\left(\frac{\bar{x} - 100}{\frac{15}{\sqrt{100}}} < \frac{90 - 100}{\frac{15}{10}}\right) = P(Z < -6,6) = 1 - P(Z < 6,6) = 1 - 0,99 \approx 1\%$

2 των 1000 Z φαίνονται μέχρι το 3,59. Από εκεί και πάνω οι τιμές είναι ίδιες (=0,9983).

πχ

Θέλω $P(t \geq 2)$ όταν έχει 4 βαθμούς ελευθερίας



Η z δείχνει πιθανότητες, η t δείχνει τον άξονα και βρίσκω τις πιθανότητες

2) Ζητούμε τιμές τιμής μιας μεταβλητής (γενικά) Εξετάζουμε δύο δείγματα. Ψάχνουμε τη διαφορά των μέσων $\bar{X}_A - \bar{X}_B$

Δημοτική κατανομή της διαφοράς των μέσων (εξετάζουμε κενό στην κατανομή)

• Αν το δείγμα A ακολουθεί κανονική κατανομή με μέση τιμή μ_A και διασπορά σ_A^2 ($A \sim N(\mu_A, \sigma_A^2)$) και το δείγμα B ακολουθεί κανονική κατανομή με μέση τιμή μ_B και διασπορά σ_B^2 ($B \sim N(\mu_B, \sigma_B^2)$). Τότε η διαφορά $\bar{X}_A - \bar{X}_B$ ακολουθεί κανονική κατανομή με $\mu = \mu_A - \mu_B$ και $\sigma^2 = \frac{\sigma_A^2}{n_A} + \frac{\sigma_B^2}{n_B}$

• Άν οι αρχικοί πληθυσμοί δεν είναι κανονικοί αλλά τα δείγματα μεγάλα, τότε ισχύει το ίδιο

πχ

Εξετάζουμε τους μισούς δύο σχοδών Α και Β ως προς σκόρα τους. Υποθέτουμε ότι η κατανομή των σκωρών των δύο σχολών είναι κανονική με $\mu_A = 72$ και $\sigma_A^2 = 4$ και $\mu_B = 71$ και $\sigma_B^2 = 3$. Πείραζουμε ένα τυχαίο δείγμα 40 μαθητών από το σχολή Α και 50 μαθητών από το σχολή Β. Να βρεθεί η πιθανότητα η διαφορά των μέσων στα δείγματα να είναι μεταξύ 1 και 2 κλάδων.

Λύση

Σχολή Α: $\mu_A = 72$, $\sigma_A^2 = 4$, $n_A = 40$, Σχολή Β: $\mu_B = 71$, $\sigma_B^2 = 3$, $n_B = 50$
Α διαφορά των μέσων $\bar{X}_A - \bar{X}_B$, Ακολουθεί κανονική κατανομή με $\mu = \mu_A - \mu_B = 72 - 71 = 1$ και $\sigma^2 = \frac{\sigma_A^2}{n_A} + \frac{\sigma_B^2}{n_B} = \frac{4}{40} + \frac{3}{50} = 0,16$

Άρα $\sigma = \sqrt{0,16} = 0,4$

$$P(1 < \bar{X}_A - \bar{X}_B < 2) = P\left(\frac{1-1}{0,4} < Z < \frac{2-1}{0,4}\right) = P(0 < Z < 2,5) =$$

$$= P(Z < 2,5) - P(Z < 0) = 0,99379 - 0,5 = 0,49379$$

③ Ζέρουμε α τανη οηηηδυσηος ψάχνουμε ποσοστό σε ενυ δείγμα τανη η άσσην τόσε χρησιμοποιούμε δειγματική κατανομή του ποσοστού.

- Αν ο ηηηδυσηος ακολουθεί κανονική κατανομή τανη χαρακτηρίσε ποση ποσοστό του p εχα μια ιδιότητα, θεωρούσε δείγμα η ατόμων. Με ενδιαφέρει το ποσοστό του δείγματος με τανη ίδια ιδιότητα. Ακολουθεί κανονική κατανομή με μέση τιμή $\mu = p$ και διασπορά $\sigma^2 = \frac{p \cdot (1-p)}{n}$

Πχ

Το 10% των ατόμων παρακολουθεί ένα συγκεκριμένο δελτίο ειδήσεων. Παιρνουμε ένα τυχαίο δείγμα 500 ατόμων. Να βρεθεί η πιθανότητα το δείγμα να περιλαμβάνει τωδεσδεσάτες αυτου του δελτίου σε ποσοστό πάνω από 11.

Απάντηση

ηηηδυσηος

10% βλέπει συγκεκριμένο δελτίο

"

$$p = 0,10$$

Δείγμα $n = 500$

Η δειγματική κατανομή του ποσοστού \bar{p} είναι

κανονική με μέση τιμή $\mu = p = 0,10$ και

$$\text{διασπορά } \sigma^2 = \frac{p(1-p)}{n} = \frac{0,10 \cdot 0,90}{500} = 0,00018$$

$$\text{Άρα } \sigma = \sqrt{0,00018} = 0,0134$$

$$P(\bar{p} \geq 0,15) = 1 - P(\bar{p} \leq 0,15) \\ = 1 - P\left(Z \leq \frac{0,15 - 0,10}{0,0134}\right)$$

$$= 1 - P(Z \leq 3,73)$$

$$= 1 - 0,999 = 1\%$$

2^ο Κεφάλαιο

Διάστημα εμπιστοσύνης (Δ.Ε)

Δ.Ε για το μέσο

Ζέρουμε ένα δείγμα (πληθυσ) και φαίναμε τι μέση τιμή όπου του πληθυσμού
ΔΕΝ ΓΙΝΕΤΑΙ γιατί δεν έχουμε αρκετές πληροφορίες

Τι γίνεται?

→ θα έχουμε δηλαδή ένα ποσοστό λάθους

Ζέρουμε ένα δείγμα και θα επιλέξουμε ένα διάστημα μέσα στο οποίο θα βρισκόμαστε η μέση τιμή όπου του πληθυσμού

α = επίπεδο σημαντικότητας: Η πιθανότητα να έχουμε σωστή λάθος

διάστημα, δηλαδή η πιθανότητα η μέση τιμή να είναι έξω από το διάστημα που υπολογίσαμε (ποσοστό λάθους)

$\alpha = (5\%, 3\%, 1\%, 1\%) \rightarrow$ πιο σίγουρα αποτελέσματα

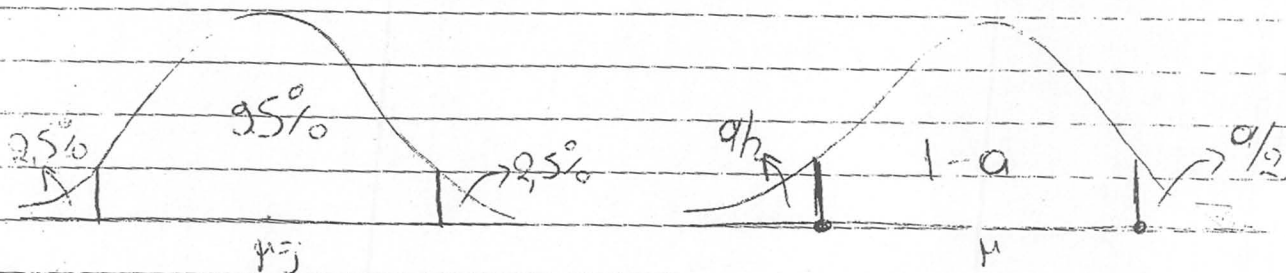
→ όταν πόσοι δώσουμε ο θεωρώ το 5%

β = βαθμός εμπιστοσύνης = $1 - \alpha$: Η πιθανότητα η μέση τιμή να είναι μέσα στο διάστημα που βρήκαμε

Περίπτωσης

① Έχουμε κανονικό πληθυσμό με γνωστή διασπορά σ^2 και φαίναμε Δ.Ε για τι μέση τιμή του. Εάν γέρουμε δείγμα n ατόμων, βρίσκουμε τη μέση τιμή του \bar{x} και Δ.Ε = $(\bar{x} - z_{\alpha/2} \cdot \frac{\sigma}{\sqrt{n}}, \bar{x} + z_{\alpha/2} \cdot \frac{\sigma}{\sqrt{n}})$

$$P(-z_{\alpha/2} \leq z \leq z_{\alpha/2})$$



Το εβδομαδιαίο ποσό που χρειάζεται μια οικογένεια για το super market ακολουθεί κανονική κατανομή με διασπορά 144 €. Έχα ένα δείγμα 36 οικογενειών, για τις οποίες βρήκαμε ότι γοδώνουν κατά μέσο όρο 70 € την εβδομάδα. Να υπολογιστεί Δ.Ε. για το μέσο ποσό που γοδώνει μια οικογένεια με ε.σ. 1%

Λύση

πληθυσμός: εβδομαδιαίο ποσό για μόνια $\sim N(\mu, \sigma^2=144)$

Δείγμα $n=36$ οικογένειες $\bar{x}=70$

$\alpha=1\%=0,01$

$0,005 = \alpha/2$ $0,995$ 99% $0,005 = \alpha/2$

$z_{\alpha/2} = z_{0,005} = 2,58$

$\Delta E = \left(\bar{x} - z_{\alpha/2} \cdot \frac{\sigma}{\sqrt{n}}, \bar{x} + z_{\alpha/2} \cdot \frac{\sigma}{\sqrt{n}} \right)$

$= \left(70 - 2,58 \cdot \frac{12}{\sqrt{36}}, 70 + 2,58 \cdot \frac{12}{\sqrt{36}} \right)$

$= (70 - 5,16, 70 + 5,16)$

$= (64,84, 75,16)$

Με 99% βεβαιότητα η μέση τιμή του πληθυσμού θα είναι

στο διάστημα $(64,84, 75,16)$

Άσκηση ①

Η βαθμολογία στα μαθηματικά ακολουθεί κανονική κατανομή με διακύμανση 9. Εφετίβηκε ένα δείγμα 16 βαθμολογιών και βρέθηκε μέση τιμή 6,3. Να βρεθεί διάστημα εμπιστοσύνης 95% για τη μέση τιμή όλων των βαθμολογιών.


Λύση

Δείγμα: $n=16, \bar{x}=6,3$

Απόδοσης: $\sigma^2=9$, Δεχόμαστε μέσο κανονικό κατανομή

$\alpha=5\%=0,05, \frac{\alpha}{2}=0,025, Z_{\alpha/2}=1,96$

$ΔΕ = \left[6,3 - 1,96 \cdot \frac{3}{4}, 6,3 + 1,96 \cdot \frac{3}{4} \right]$



$ΔΕ = [6,3 - 1,88, 6,3 + 1,88]$

$ΔΕ = [4,42, 8,18]$

Άσκηση ②

Οι πωλητές μιας βιομηχανίας ακολουθούν κανονική κατανομή με τυπική απόκλιση 12.000 €. Έχουμε δείγμα 25 πωλητών με μέση τιμή 81.000 €. Να βρεθεί 99% διάστημα εμπιστοσύνης για τη μέση τιμή των πωλητών.

Λύση

Δείγμα: $n=25, \bar{x}=81.000$

Απόδοσης: $\sigma=12.000$, Δεχόμαστε μέσο κανονικό κατανομή

$\alpha=1\%=0,01, \alpha/2=0,005, Z_{\alpha/2}=2,58$

$ΔΕ = \left[81.000 - 2,58 \cdot \frac{12.000}{5}, 81.000 + 2,58 \cdot \frac{12.000}{5} \right]$

$ΔΕ = [74.808, 87.192]$

Άσκηση ③

Από ένα κανονικό απόδοσης παίρνουμε δείγμα 16 ατόμων και βρισκόμαστε μέση τιμή 14,5 και τυπική απόκλιση 5. Να βρεθεί 90% ΔΕ για το μέσο του απόδοσης.

Λύση

Δείγμα: $n=16, \bar{x}=14,5, s=5, s^2=25$

$\alpha=10\%=0,1, \alpha/2=0,05, β Ε = n-$

απόδοσης: κανονικό κατανομή, ΔΕ για το μέσο

Αρα $t_{15,0,05}=1,753$

$ΔΕ = \left[14,5 - 1,753 \cdot \frac{5}{4}, 14,5 + 1,753 \cdot \frac{5}{4} \right] = [14,5 - 2,191, 14,5 + 2,191] =$

Άσκηση 4

Ένας κτηνίατρος έχει άγνωστη διασπορά αλλά υποθέτει κανονική κατανομή. Σε ένα τυχαίο δείγμα 18 ατόμων η μέση τιμή είναι 14,5, s η διασπορά 1. Να βρεθεί 95% διάστημα εμπιστοσύνης για τη μέση τιμή του κτηνίατρο.

Λύση

Δείγμα: $n=18, \bar{x}=14,5, s^2=1$

κτηνίατρος: κανονικότητα, ΔΕ για κρέμα

$$\alpha = 5\% = 0,05, \alpha/2 = 0,025$$

$$\text{β.ε.} = n-1 = 17$$

$$t_{17,0,025} = 2,110$$

$$\begin{aligned} \Delta\text{Ε} &= \left[\bar{x} - t \cdot \frac{s}{\sqrt{n}}, \bar{x} + t \cdot \frac{s}{\sqrt{n}} \right] = \left[14,5 - 2,11 \cdot \frac{1}{\sqrt{18}}, 14,5 + 2,11 \cdot \frac{1}{\sqrt{18}} \right] \\ &= [14,5 - 0,5, 14,5 + 0,5] = [14, 15] \end{aligned}$$

Διάστημα εμπιστοσύνης για τη διαφορά των μέσων δύο κανονικών κτηνίατρων με γνωστή διασπορά.

Παρατήρηση: Εάν έχουμε μεγάλα δείγματα, αλλά διαφέρουμε των κανονικότητας θα πάρουμε τον ίδιο τύπο (δεν είναι ποτέ η κανονικότητα αφού έχω μεγάλα δείγματα).

$$\left[(\bar{x}_1 - \bar{x}_2) - Z_{\alpha/2} \cdot \sqrt{\frac{\sigma_1^2}{n_1} + \frac{\sigma_2^2}{n_2}}, (\bar{x}_1 - \bar{x}_2) + Z_{\alpha/2} \cdot \sqrt{\frac{\sigma_1^2}{n_1} + \frac{\sigma_2^2}{n_2}} \right]$$

Άσκηση

Σε δύο χώρες πωλείται ένα προϊόν με διαφορετική μέση τιμή. Η διασπορά της είναι του στην χώρα Α είναι 200 και στη χώρα Β είναι 550. Πιραμε δύο τυχαία δείγματα 45 και 55 ατόμων αντίστοιχα από τις δύο χώρες για να ονομα βρούμε τις μέσες τιμές 120 και 100 αντίστοιχα. Να υπολογιστεί 99% διάστημα εμπιστοσύνης για τη διαφορά των μέσων τιμών στις δύο χώρες.

Λύση

κτηνίατρος δείγμα

$$\text{Χώρα Α: } \sigma^2 = 200, n_A = 45, \bar{x}_A = 120$$

$$\text{Χώρα Β: } \sigma^2 = 550, n_B = 55, \bar{x}_B = 100$$

Επειδή τα δείγματα είναι μεγάλα μπορούμε να χρησιμοποιήσουμε τον τύπο για την κανονικότητα (με το Z)

$$\bar{X}_A - \bar{X}_B = 20, \quad \sqrt{\frac{\sigma_A^2}{n_A} + \frac{\sigma_B^2}{n_B}} = \sqrt{14,44} = 3,8$$

$$\alpha = 1\% = 0,01 \Rightarrow \alpha/2 = 0,005 \Rightarrow Z_{\alpha/2} = 0,995 = 2,58$$

$$\Delta\epsilon = [20 - 2,58 \cdot 3,8, 20 + 2,58 \cdot 3,8] \\ = [10,196, 29,804]$$

Άσκηση

Πωλείσθε 100 καταναλωτές και οι 22 από αυτούς προτιμούν ένα προϊόν Α. Να βρεθεί το εμπέδο εμπιστοσύνης 5% το διάστημα εφικτότητας για το ποσοστό όλων των καταναλωτών που θα προτιμήσουν το προϊόν Α.

Λύση

$$\text{Δείγμα: } n=100, \quad p = \frac{22}{100} = 0,22 \quad q = 1-p = 0,78 \\ \alpha = 5\% = 0,05, \quad \alpha/2 = 0,025 \Rightarrow Z_{\alpha/2} = 1,96$$

$$\Delta\epsilon = \left[0,22 - 1,96 \sqrt{\frac{0,22 \cdot 0,78}{100}}, 0,22 + 1,96 \sqrt{\frac{0,22 \cdot 0,78}{100}} \right] =$$

$$= [0,22 - 1,96 \cdot 0,041, 0,22 + 1,96 \cdot 0,041] =$$

$$= [0,22 - 0,08, 0,22 + 0,08]$$

$$= [0,14, 0,3]$$

Έλεγχος Υποθέσεων για την παράμετρο ενός πληθυσμού

Υποθέσεις $\begin{cases} \rightarrow \text{κανονικότητα πληθυσμού} \\ \rightarrow \text{ωχαιο δείγμα} \end{cases}$

Έλεγχος: κάνουμε επίσης μια υπόθεση και θα ελέγχουμε την πιθανότητα να είναι σωστή.

Διακρίσεις: H_0 = μηδενική υπόθεση
 H_1 = εναλλακτική υπόθεση

- Δεν πρέπει να υπάρχει περίπτωση το H_0 και το H_1 να συμβαίνουν ταυτόχρονα
- H_0 να είναι πάντα λογισθηματικά καθορισμένη

α = επίπεδο σημαντικότητας (επιτρέπει την πιθανότητα να κάνω λάθος)
 10%, 5%, 3%, 1%, 1% \rightarrow πιο σίγουρο αποτέλεσμα

Έλεγχος για το μέσο ενός πληθυσμού

καν. πληθ. με γνωστό σ^2
 z
 καν. πληθ. με άγνωστο σ^2
 t

Διακρίσεις

αμφίπλευρος έλεγχος	$H_0: \mu = \mu_0$	$H_1: \mu \neq \mu_0$
μονόπλευροι έλεγχοι	$H_0: \mu = \mu_0$	$H_1: \mu > \mu_0$
	$H_0: \mu = \mu_0$	$H_1: \mu < \mu_0$


Έλεγχος για το μέσο ενός κανονικού πληθυσμού με γνωστή διακύμανση

- Θα χρησιμοποιήσουμε z -αριθμ

Δείγμα: \bar{x}, n
 πληθυσμός: σ^2

υπολογίζουμε: $z = \frac{\bar{x} - \mu_0}{\sigma/\sqrt{n}}$ Υπολογίζουμε και το $z_{\alpha/2}$

αμφίπλευρος: $H_0: \mu = \mu_0$ και $H_1: \mu \neq \mu_0$



Υπολογίζουμε και το $z_{\alpha/2}$

Συγκρίνουμε το z με το $z_{\alpha/2}$

- αν $|z| < z_{\alpha/2}$ τότε αποδεχόμαστε την H_0
- αν $|z| > z_{\alpha/2}$ τότε απορρίπτουμε την H_0

Μονόπλευρος: 1) $H_0: \mu = \mu_0$ vs $H_1: \mu > 0$

z_α

Υπολογίζω το z_α

Συγκρίνω το z με το z_α

- αν $z < z_\alpha$ τότε αποδέχομαι την H_0
- αν $z > z_\alpha$ τότε απορρίπτω την H_0

2) $H_0: \mu = \mu_0$ vs $H_1: \mu < 0$

z

 $-z_\alpha$

Υπολογίζω το z_α

Συγκρίνω το z με το $-z_\alpha$

- αν $z > -z_\alpha$ τότε αποδέχομαι την H_0
- αν $z < -z_\alpha$ τότε απορρίπτω την H_0

Άσκηση

Ψάχνουμε εάν οι φοιτητές διαβάζουν την ημερα πριν των εξετάσεων. Ένα δείγμα 100 φοιτητών έδειξε ότι διαβάζουν κατά μέσο όρο 2,8 ώρες πριν τις εξετάσεις. Εάν οι ώρες διαβάσιμης ακολουθούν κανονική κατανομή με τυπική απόκλιση μισή ώρα να ελεγχθεί σε επίπεδο εμπιστευτικότητας 5% εάν ο μέσος όρος όλων των φοιτητών είναι 2,5 ώρες διαβάσιμης πριν τις εξετάσεις.

Λύση

η Ανδραγωγία: κανονικότητα, $\sigma = 0,5$

Δείγμα $n=100$, $\bar{x} = 2,8$

Επίπεδο $\alpha = 5\%$ εάν $\mu = 2,5$

Αντιθέτως $H_0: \mu = 2,5$ $H_1: \mu \neq 2,5$

$$\alpha = 5\% \Rightarrow \alpha/2 = 0,025 \Rightarrow z_{\alpha/2} = 1,96$$

$$z = \frac{\bar{x} - \mu_0}{\frac{\sigma}{\sqrt{n}}} = \frac{2,8 - 2,5}{\frac{0,5}{\sqrt{100}}} = \frac{0,3}{0,05} = 6$$

Άρα απορρίπτω την H_0

1) Έλεγχος για το μέσο, όταν ακολουθείται κανονική κατανομή με άγνωστη μέση τιμή και γνωστή διασπορά

• Υπολογίζουμε $z = \frac{\bar{x} - \mu_0}{\frac{\sigma}{\sqrt{n}}}$

• Συγκρίνουμε το z που βρίσκεται με μια κριτική τιμή (εξέρχεται από το τι έλεγχος έχουμε)

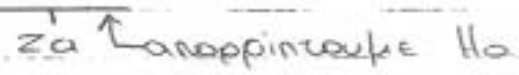
Ⓐ αμφιπλευρικός: $H_0: \mu = \mu_0$ και $H_1: \mu \neq \mu_0$
τότε συγκρίνουμε με το $\frac{z_{\alpha}}{2}$

αποδεχόμαστε H_0



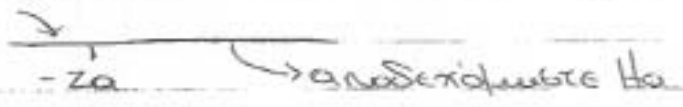
Ⓑ μονόπλευρος 1) $H_0: \mu = \mu_0$ και $H_1: \mu > \mu_0$
τότε συγκρίνουμε με το z_{α}

αποδεχόμαστε H_0



2) $H_0: \mu = \mu_0$ και $H_1: \mu < \mu_0$
τότε συγκρίνουμε με το $-z_{\alpha}$

απορρίπτουμε H_0



Παράδειγμα 1

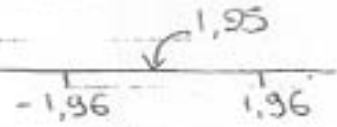
Έπαιξε ένα τυχαίο δείγμα n ατόμων από έναν κανονικό πληθυσμό με $\sigma^2 = 144$. Ταυτοποιήθηκε για το τυχαίο ποσό που γοδώνει για διασκέδαση. Ο μέσος των 9 ατόμων του δείγματος είναι 60€. Να ελέγξετε σε επίπεδο σημαντικότητας 5% την μέση τιμή του πληθυσμού είναι 55.

Λύση

$\sigma^2 = 144 \Rightarrow \sigma = 12, n = 9, \bar{x} = 60$

Αμφιπλευρικός $H_0: \mu = 55$ κ' $H_1: \mu \neq 55$

$z = \frac{\bar{x} - \mu_0}{\frac{\sigma}{\sqrt{n}}} = \frac{60 - 55}{\frac{12}{\sqrt{9}}} = \frac{5}{4} = 1,25$



Άρα αποδεχόμαστε

$\alpha = 5\% = 0,05 \quad 1 - \frac{\alpha}{2} = 1 - 0,025 = 0,975 \quad z_{\frac{\alpha}{2}} = 1,96$

Παράδειγμα ②

Ένα τυχαίο δείγμα 25 φοιτητών μας έδειξε ότι ο μέσος όρος εργασιών τους είναι 28 ώρες των εβδομάδα. Γνωρίζουμε ότι η κατανομή του χρόνου εργασίας είναι κανονική με τυπική απόκλιση 10. Να ελεγχτεί εάν οι φοιτητές εργάζονται συνολικά λιγότερο από 32 ώρες των εβδομάδα.


Λύση

$$n=25 \quad \bar{x}=28 \quad \sigma=10$$

$$\alpha=0,05 \quad 1-\alpha=0,95 \quad Z_{\alpha}=1,64$$

Μονόπλευρος $H_0: \mu=32$ v $H_1: \mu < 32$

$$Z = \frac{\bar{x} - \mu_0}{\frac{\sigma}{\sqrt{n}}} = \frac{28 - 32}{\frac{10}{\sqrt{25}}} = \frac{-4}{2} = -2$$



Άρα απορρίπτονται των H_0 , δηλαδή οι φοιτητές εργάζονται λιγότερο από 32 ώρες των εβδομάδα, με περιθώριο λάθους 5%.

Παράδειγμα ③ Παλιό δίκτυο

Ένα δείγμα 18 ναυτικών ρωτήθηκε για το μέσο χρόνο υπηρεσίας του πριν συνταξιοδοτηθεί. Ο μέσος όρος βρέθηκε 25 χρόνια. Γνωρίζουμε ότι ο χρόνος υπηρεσίας των ναυτικών ακολουθεί κανονική κατανομή με τυπική απόκλιση 3,5 χρόνια. Να ελεγχθεί εάν ο μέσος χρόνος υπηρεσίας είναι μεγαλύτερος από 23 χρόνια.


Λύση

$$n=18 \quad \bar{x}=25 \quad \sigma=3,5 \quad \mu_0=23$$

$$\alpha=0,05 \quad 1-\alpha=0,95 \quad Z_{\alpha}=1,64$$

Μονόπλευρος $H_0: \mu=23$ v $H_1: \mu > 23$

$$Z = \frac{\bar{x} - \mu_0}{\frac{\sigma}{\sqrt{n}}} = \frac{25 - 23}{\frac{3,5}{\sqrt{18}}} = \frac{2}{\frac{3,5}{4,2}} = \frac{2}{0,8} = 2,43$$



Άρα απορρίπτονται των H_0 , οπότε ο μέσος χρόνος υπηρεσίας είναι μεγαλύτερος από 23 χρόνια.

2) Έλεγχος για το μέσο, όταν ακολουθείται κανονική κατανομή με άγνωστη μέση τιμή και άγνωστη διασπορά.


α) το δείγμα είναι μεγάλο (> 30), τότε χρησιμοποιούμε ως σ , την τυπική απόκλιση του δείγματος και κάνουμε ό,τι κάναμε στον πρώτο έλεγχο.

β) το δείγμα είναι μικρό (< 30), τότε θα χρησιμοποιήσουμε την t -κατανομή


• Υπολογίζουμε $t = \frac{\bar{x} - \mu_0}{\frac{s}{\sqrt{n}}}$

• Συγκρίνουμε ανάλογα με τον έλεγχο που έχουμε, με μια τιμή του πίνακα t με $n-1$ βαθμούς ελευθερίας.

i) αμφίπλευρος



ii) μονόπλευρος



Παράδειγμα 1

Μια βιομηχανία θέλει να ελέγξει εάν η διασκευη ενός προϊόντος τρεχει γύρω στα 600€. Ένα τυχαίο δείγμα 10 επειρών αυτών έδωσε μέση τιμή 598,8 και τυπική απόκλιση 5,6. Γνωρίζοντας ότι οι τιμές ακολουθούν κανονική κατανομή να ελεγήσει ο βιομηχανικός βεβαιημένο επικοινωνικότητας!


Λύση

Κανονικότητα, έλεγχος για το μέσο $H_0: \mu = 600$ κ' $H_1: \mu \neq 600$
 $\sigma = s$, $n = 10$ (μικρό), $\bar{x} = 598,8$ $s = 5,6$

Υπολογίζουμε $t = \frac{\bar{x} - \mu_0}{\frac{s}{\sqrt{n}}} = \frac{598,8 - 600}{\frac{5,6}{\sqrt{10}}} = -0,677$

$t_{n-1, \alpha} = t_{9, 0,005} = 3,25$

$\downarrow -0,677$



Άρα αποδεχόμαστε την H_0 , δηλαδή η διασκευη της τρεχει γύρω στα 600€ με περιθώριο βλάβης 1%.

Άσκηση

Από έναν τυχαίο δείγμα ατόμων πήραμε ένα δείγμα με τις τιμές
42 52 40 74 Να ελεγχθεί σε επίπεδο εμπιστευτικότητας 5%
εάν η μέση τιμή του ατόμου είναι μεγαλύτερη από 50

Λύση

Κοινωνία, $\sigma = ?$, $n = 4$ (μικρό), $\bar{x} = \frac{\sum x_i}{n} = 52$

$$S^2 = \frac{\sum (x_i - \bar{x})^2}{n-1} = 242,66 \Rightarrow S = 15,57$$

Δείγμα ατόμων
διαχωρώ με n άτομα
 $\sigma^2 = \frac{\sum (x_i - \bar{x})^2}{n}$

$$\bar{x} = \frac{\sum x_i}{n} = \frac{42 + 52 + 40 + 74}{4} = \frac{208}{4} = 52$$

$$S^2 = \frac{\sum (x_i - \bar{x})^2}{n-1}$$

$$= \frac{(42-52)^2 + (52-52)^2 + (40-52)^2 + (74-52)^2}{4-1}$$

$$= \frac{(-10)^2 + 0^2 + (-12)^2 + 22^2}{3} = \frac{100 + 144 + 484}{3} = \frac{728}{3} = 242,66$$

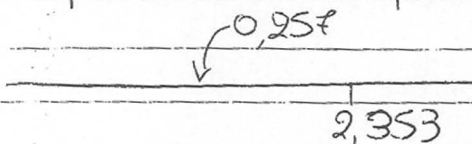
\bar{n}

x_i	$x_i - \bar{x}$	$(x_i - \bar{x})^2$
42	-10	100
52	0	0
40	12	144
74	22	484
208		728

$$S^2 = \frac{\sum (x_i - \bar{x})^2}{n-1} = \frac{728}{3} = 242,66$$

$$S = \sqrt{242,66} = 15,57$$

$H_0: \mu = 50$ κ' $H_1: \mu \neq 50$



$$t = \frac{\bar{x} - \mu_0}{\frac{S}{\sqrt{n}}} = \frac{52 - 50}{\frac{15,57}{\sqrt{4}}} = 0,257$$

$$t_{n-1, \alpha} = t_{3, 0,05} = 2,353$$

Αρα αποδεχόμαστε την H_0 , οπότε η μέση τιμή των ατόμων
δεν είναι μεγαλύτερη από 50, με επίπεδο εμπιστευτικότητας 5%

3) Έλεγχος για τη διαφορά των μέσων αξιών δύο κανονικών πληθυσμών (ανεξάρτητα δείγματα)

αβιθιόδαρος: $H_0: \mu_1 = \mu_2$ κ' $H_1: \mu_1 \neq \mu_2$
 μονόθλαρος: $H_0: \mu_1 = \mu_2$ κ' $H_1: \mu_1 < \mu_2$
 $H_0: \mu_1 = \mu_2$ κ' $H_1: \mu_1 > \mu_2$

α) Αν έχουμε άγνωστη διασπορά χρησιμοποιούμε z-τιμές

• Υπολογίζουμε
$$z = \frac{\bar{x}_1 - \bar{x}_2}{\sqrt{\frac{\sigma_1^2}{n_1} + \frac{\sigma_2^2}{n_2}}}$$

• Συγκρίνουμε με την αντίστοιχη z-τιμή.

β) i) Αν έχουμε άγνωστη διασπορά και μικρά δείγματα χρησιμοποιούμε t-τιμές

• Υπολογίζουμε
$$t = \frac{\bar{x}_1 - \bar{x}_2}{\sqrt{\frac{s_1^2}{n_1} + \frac{s_2^2}{n_2}}}$$
 με β.ε = $n_1 + n_2 - 2$

• Συγκρίνουμε με την αντίστοιχη t-τιμή.

ii) Αν έχουμε άγνωστη διασπορά και τα δύο δείγματα είναι μεγ (οχι αβριθισυαί) τότε χρησιμοποιούμε πάλι z-τιμές με την τυπική απόκλιση του δείγματος που, βάσει των περιπτώσεων, εκφράζει την τυπική απόκλιση του πληθυσμού.

Παράδειγμα 1

Δύο πολυκατασκευαστικά θέλουν να συγκρίνουν τις μέσες ημερήσιες πωλήσεις. Οι πωλήσεις του πρώτου αεροδρόμιου κανονικά κατανομί με τυπική απόκλιση και οι πωλήσεις του δεύτερου αεροδρόμιου κανονικά κατανομί με τυπική απόκλιση 18. Ένα δείγμα 100 ημερών από το πρώτο έδωσε μέση τιμή 300 και ένα δείγμα 75 ημερών από το δεύτερο έδωσε μέση τιμή 280.

Λύση

Δύο πληθυσμοί (ανεξάρτητα), κανονικά, $\sigma_1 = 30$, $\sigma_2 = 18 \Rightarrow z$ -τιμή

1^ο δείγμα: $n_1 = 100$, $\bar{x}_1 = 300$

$\alpha = 5\% \Rightarrow \alpha/2 = 0,025$

2^ο δείγμα: $n_2 = 75$, $\bar{x}_2 = 280$

$1 - \alpha/2 = 0,975$

$z_{\alpha/2} = 1,96$

$H_0: \mu_1 = \mu_2$ και $H_1: \mu_1 \neq \mu_2$

$Z = \bar{x}_1 - \bar{x}_2 = 300 - 280 = 20$

$\sqrt{\frac{\sigma_1^2}{n_1} + \frac{\sigma_2^2}{n_2}} = \sqrt{\frac{30^2}{100} + \frac{18^2}{75}}$



Άρα απορρίπτουμε την H_0 , οπότε έχουμε 5% πωλήσεις τους, με περίπου ο ίδιος 5%

Παράδειγμα ② τριτόθεν

Θέλουμε να συγκρίνουμε την κατανομή του αριθμού βεδυστών που μπαίνουν για τον κύκλο Α να είναι 50 δολάρια και διαπιστώσαμε μέση κατανομή 18 και για τον κύκλο Β να είναι 75 δολάρια και βρήκαμε μέση κατανομή 21. Αυτή η απόδοση του πρώτου είναι 3 και του δεύτερου 4. Να γίνει η σύγκριση σε επίπεδο σημαντικότητας 4%.

Λύση

Κ.Ο.Θ επειδή τα δείγματα είναι μεγάλα παίρνουμε κατανομή σε z-τιμές.

A μηχανή: $n_1 = 50, \bar{x}_1 = 18, \sigma_1 = s_1 = 3$

B μηχανή: $n_2 = 75, \bar{x}_2 = 21, \sigma_2 = s_2 = 4$

$H_0: \mu_1 = \mu_2$ και $H_1: \mu_1 \neq \mu_2$

$$z = \frac{\bar{x}_1 - \bar{x}_2}{\sqrt{\frac{s_1^2}{n_1} + \frac{s_2^2}{n_2}}} = \frac{18 - 21}{\sqrt{\frac{3^2}{50} + \frac{4^2}{75}}} = \frac{-3}{\sqrt{\frac{9}{50} + \frac{16}{75}}} = \frac{-3}{\sqrt{0,18 + 0,21}} = \frac{-3}{\sqrt{0,39}} = \frac{-3}{0,6} = -4,78$$

$$\alpha = 4\% = 0,04 \Rightarrow \alpha/2 = 0,02 \Rightarrow 1 - \alpha/2 = 0,98 \Rightarrow z_{\alpha/2} = 2,06$$

-4,78

-2,06

2,06

Άρα απορρίπτουμε την H_0 , οπότε οι δύο μηχανές έχουν διαφορά στην κατανομή με περσένιο λάδι.

Παράδειγμα ③ τριτόθεν

Ένας αρτοποιός αποφασίζει να ερευνήσει εάν οι εμπορικές μετρητές αποδίδουν περισσότερο από τις βιομηχανικές. Ένα δείγμα 18 εμπορικών μετρητών έδειξε απόδοση 3,5 και τυπική απόκλιση 1,3 και ένα δείγμα 20 βιομηχανικών μετρητών έδειξε απόδοση 2,7 και τυπική απόκλιση 1,5. Θεωρώντας κανονικές κατανομές των μετρητών να γίνει ο έλεγχος.

Λύση

Δύο δείγματα: (ανεξάρτητα), κανονικά, μικρά δείγματα \Rightarrow t-τιμές.

εμπορικές: $n_1 = 18, \bar{x}_1 = 3,5, s_1 = 1,3$

βιομηχανικές: $n_2 = 20, \bar{x}_2 = 2,7, s_2 = 1,5$

$$n_1 + n_2 - 2 = 18 + 20 - 2 = 36 \text{ β.ε}$$

$H_0: \mu_1 = \mu_2$ και $H_1: \mu_1 > \mu_2$

$$\alpha = 0,05$$

$$t = \frac{\bar{x}_1 - \bar{x}_2}{\sqrt{\frac{s_1^2}{n_1} + \frac{s_2^2}{n_2}}} = \frac{3,5 - 2,7}{\sqrt{\frac{1,3^2}{18} + \frac{1,5^2}{20}}} = \frac{0,8}{0,454} = 1,762$$

$$t_{36, 0,05} = 1,69$$

$$\sqrt{\frac{s_1^2}{n_1} + \frac{s_2^2}{n_2}} = \sqrt{\frac{1,3^2}{18} + \frac{1,5^2}{20}} = 0,454$$

1,69

1,762

Απορρίπτουμε την H_0 , οπότε οι εμπορικές έχουν μεγαλύτερη απόδοση από τις βιομηχανικές με περσένιο λάδι 5%.

4) Έλεγχος υποθέσεων για ποσοστά

(A) Εάν έχουμε έλεγχο για ένα ποσοστό γνωρίζοντας πλήρως ένα δε του πληθυσμού (τυπικό)

Εστω ένα δείγμα μεγέθους n στο οποίο ένα ποσοστό του \hat{p} έχει k ιδιότητα (πχ αγοράζει μία κάρτα ταξίμων). Θέλουμε να ελέγξουμε το ποσοστό του πληθυσμού έχει την ίδια ιδιότητα, δηλ. εάν το ποσοστό p είναι p_0 (ή διάφορο ή μεγαλύτερο ή μικρότερο του πληθυσμού).

Ο έλεγχος γίνεται υπολογίζοντας μια z -αξία $z = \frac{\hat{p} - p_0}{\sqrt{\frac{p_0(1-p_0)}{n}}}$

Παράδειγμα

Ρωτήσαμε 400 ανθρώπους για το ποιο δελτίο ειδήσεων παρακολουθεί το 27% μας απάντησε ότι παρακολουθεί το STAR. Να ελέγξετε εάν μπορούμε ότι το 25% όλων των τηλεθεστών παρακολουθεί το STAR.

Λύση

Δείγμα μεγέθους 400 στο οποίο ένα ποσοστό του $\hat{p} = 27\%$ παρακολούθησε STAR. Θέλουμε να ελέγξουμε εάν το 25% όλων παρακολουθεί

$H_0: p = 25\% = 0,25$ κ' $H_1: p \neq 25\% \neq 0,25$

$\alpha = 5\% = 0,05 \Rightarrow \alpha/2 = 0,025 \Rightarrow Z_{\alpha/2} = 1,96$

$$Z = \frac{\hat{p} - p_0}{\sqrt{\frac{p_0(1-p_0)}{n}}} = \frac{0,27 - 0,25}{\sqrt{\frac{0,25(1-0,25)}{400}}} = \frac{0,02 \cdot 20}{\sqrt{0,25 \cdot 0,75}} = \frac{0,4 \cdot 10 \cdot 10}{5\sqrt{75}} = \frac{8}{\sqrt{75}} = 0,923$$

Άρα αποδεχόμαστε την H_0 , δηλαδή μπορούμε να υποθέσουμε ότι του πληθυσμού παρακολουθεί ειδήσεις του STAR.

Άσκηση I παλιό θέμα

Ένας καθηγητής ρώτησε 121 μαθητές εάν θέλουν να γίνουν εναλλαχ διαγωνίσματα. Το 30% απάντησε καταφατικά ενώ το 70% απάντησε αρνητικά. Να ελέγξετε εάν πάνω από το 25% των μαθητών θέλουν εναλλαχ και

Λύση

$n = 121, \hat{p} = 30\% = 0,3, \alpha = 0,05 \Rightarrow Z_{\alpha} = 1,64$

$H_0: p = 0,25$ κ' $H_1: p > 0,25$

$$Z = \frac{\hat{p} - p_0}{\sqrt{\frac{p_0(1-p_0)}{n}}} = \frac{0,30 - 0,25}{\sqrt{\frac{0,25(1-0,25)}{121}}} = \frac{0,05 \cdot 11}{\frac{5}{10} \cdot \frac{\sqrt{75}}{10}} = \frac{55}{5\sqrt{75}} = \frac{11}{\sqrt{75}} = 1,27$$

Άρα αποδεχόμαστε H_0 , δηλαδή το 25% των μαθητών εναλλαχ.

Άσκηση II

Σε κάποιο δείγμα 400 ατόμων οι 100 δήλωσαν ότι αγοράζουν συγκεκριμένο, απορριπτικό Μπορούμε να δηλώσουμε ότι στο σύνολο των καταναλωτών έχει μείωση αγοράς λιγότερο από 30%

Λύση

$$\text{Δείγμα } n=400, \hat{p} = \frac{100}{400} = 0,25$$

$$\begin{array}{r} -2,18 \\ \hline -1,64 \end{array}$$

ηπόθεση: λιγότερο από 30%

$$H_0: p=0,3 \quad \text{η} \quad H_1: p < 0,3$$

$$z = \frac{\hat{p} - p_0}{\sqrt{\frac{p_0(1-p_0)}{n}}} = \frac{0,25 - 0,3}{\sqrt{\frac{0,3 \cdot 0,7}{400}}} = \frac{-0,05 \cdot 20}{\sqrt{0,3 \cdot 0,7}} = \frac{-1}{0,458} = -2,18$$

Απορριπτούμε την H_0 άρα λιγότερο από 30% αγοράζουν το απορριπτικό

(B) Έλεγχος για διαφορά ποσοστών στους αντίστοιχους πληθυσμούς (Δεν έχω ποσοστά πληθυσμών)

Δείγμα 1: n_1, p_1

Υπολογίζουμε $z = \frac{p_1 - p_2}{\sqrt{\hat{p}(1-\hat{p})\left(\frac{1}{n_1} + \frac{1}{n_2}\right)}}$

Δείγμα 2: n_2, p_2

$$\hat{p} = \frac{p_1 \cdot n_1 + p_2 \cdot n_2}{n_1 + n_2}$$

Άσκηση I παλιό θέμα

Ένα προϊόν παράγεται με δύο διαφορετικές μεθόδους. Παιχνάμε κάποια δείγματα τεμαχίων από αυτά που παράγονται με την Α μέθοδο και βριστούμε 150. Παιχνάμε κάποιο δείγμα 500 τεμαχίων από αυτά που παράγονται με τη Β μέθοδο και βριστούμε 60 ελαττωματικά. Μπορούμε να πούμε σε επίπεδο εμπιστευτικότητας 1% ότι οι δύο μέθοδοι διαφέρουν ως προς το ποσοστό των ελαττωματικών προϊόντων?

Λύση

$$\text{Δείγμα 1: } n_1=1000, p_1 = \frac{150}{1000} = 0,15$$

$$\begin{array}{r} 1,57 \\ \hline 2,58 \end{array}$$

$$\text{Δείγμα 2: } n_2=500, p_2 = \frac{60}{500} = 0,12$$

$$-2,58$$

$$2,58$$

$$\alpha = 0,01 \Rightarrow \alpha/2 = 0,005, \quad 1 - 0,005 = 0,995 \Rightarrow Z_{0,995} = 2,58$$

$$\hat{p} = \frac{p_1 \cdot n_1 + p_2 \cdot n_2}{n_1 + n_2} = \frac{1000 \cdot 0,15 + 500 \cdot 0,12}{1000 + 500} = \frac{150 + 60}{1500} = \frac{210}{1500} = 0,14$$

$$z = \frac{p_1 - p_2}{\sqrt{\hat{p}(1-\hat{p})\left(\frac{1}{n_1} + \frac{1}{n_2}\right)}} = \frac{0,13 - 0,12}{0,14(1-0,14)\left(\frac{1}{1000} + \frac{1}{500}\right)} = 1,58$$

Άρα αποδεχόμαστε H_0 , δηλαδή δεν υπάρχει διαφορά μεταξύ των μεθόδων όσον αφορά την παραγωγή εδαπωματικών προϊόντων.

Άσκηση II

Ένα πρώτο δείγμα 200 βιομηχανικών επιχειρήσεων δίνει την πληροφορία ότι 12% ανώτερο έχει αυξημένα έξοδα διαφήμισης. Ένα πρώτο δείγμα 1600 κτηνοτροφικών επιχειρήσεων μας πληροφορεί ότι 15% ανώτερο έχει αυξημένα έξοδα διαφήμισης. Να ελέγξετε εάν σε επίπεδο σημερινότητας 5% τα ποσοστά των κτηνοτροφικών επιχειρήσεων που γομάει μεγάλα ποσά για διαφήμιση είναι μεγαλύτερο από αυτό των βιομηχανικών.

Λύση

Δείγμα βιομηχανικών: $n_1 = 200, p_1 = 0,12$

Δείγμα κτηνοτροφικών: $n_2 = 1600, p_2 = 0,15$

$$\alpha = 0,05 \Rightarrow 1 - \alpha = 0,95 \Rightarrow z_{\alpha} = 1,64$$

$$\begin{array}{c} \downarrow 0,8779 \\ \hline -1,64 \end{array}$$

$H_0: p_1 = p_2$ vs $H_1: p_1 < p_2$

$$\hat{p} = \frac{p_1 \cdot n_1 + p_2 \cdot n_2}{n_1 + n_2} = \frac{0,12 \cdot 200 + 0,15 \cdot 1600}{200 + 1600} = \frac{24 + 240}{1800} = \frac{264}{1800} = 0,1467$$

$$z = \frac{p_1 - p_2}{\sqrt{\hat{p}(1-\hat{p})\left(\frac{1}{n_1} + \frac{1}{n_2}\right)}} = \frac{0,12 - 0,15}{\sqrt{0,1467(1-0,1467)\left(\frac{1}{200} + \frac{1}{1600}\right)}} = \frac{-0,03}{\sqrt{0,1267 \cdot 0,8633 \cdot \frac{1}{1800}}} = \frac{-0,03 \cdot 10}{\sqrt{0,116775}} =$$

$$= \frac{-0,3}{0,3417} = -0,8779$$

Άρα αποδεχόμαστε H_0 , δηλαδή δεν έχουν διαφορά τα έξοδα για διαφήμιση των δύο επιχειρήσεων.

Προσοχή

- ① Όταν σου πω ότι έχω ομάδα κάνω αριθμητική παρουσίαση, ενώ το κλάσμα, κάνω το σύνθετο αριθμό και μετά πράξεις χωρίς προσέγγιση αυτών.
- ② Όταν βάλω μέχρι 4 δεκαδικά ταχράνω ότι και κάνω προσέγγιση 1 εάν τελικά πηγαίνει ή μόνο εάν έχω άνερα δεκαδικά.

Συσχέτιση δύο μεταβλητών

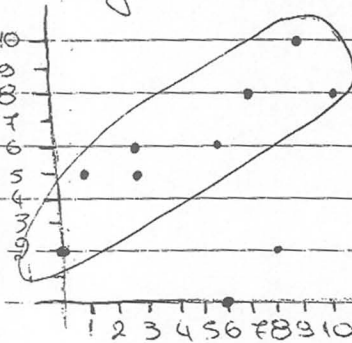
Συσχέτιση: Σχέση των τιμών τους ανεξάρτητα από το εάν είναι εγγραμμένα ή ανεξάρτητα δείγματα

Γραφικά, προτιμολογείται το διάγραμμα διασποράς (συμπίπτει συχνά διάγραμμα που δεν σχεδιάστηκε καθόλου, αλλά εντός 2 το SPSS είναι το Scatter plot)

Παράδειγμα

Έχετε τους βαθμούς στα μαθηματικά και στο marketing 10 φοιτητών

Μαθηματικά	9	8	6	10	3	1	7	3	6	0
Marketing	10	2	0	8	5	5	8	6	6	2

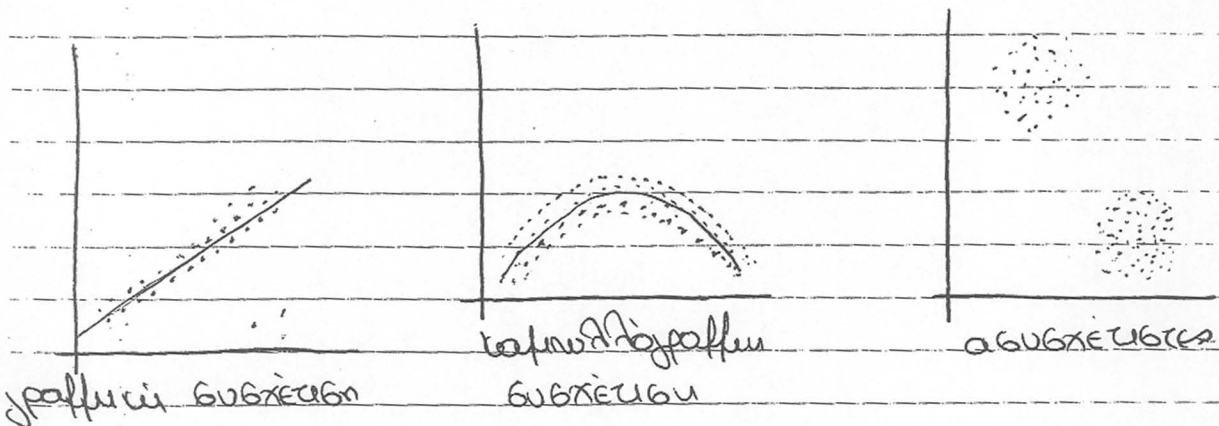


Βασικό ερώτημα

Όλες οι σχέσεις ή όλες οι κοινές συχνοότητες ή απλά από μια κοινότητα?

Απάντηση

Εάν να τότε οι μεταβλητές είναι συσχετιζόμενες. Εάν όχι τότε οι μεταβλητές είναι ασυσχετισμένες



Κοινοδρόμηση

Κοινοδρόμηση: τρία κοινά κλάσματα / μεταβλητές τα οποία βε μια γραμμή

εξίσωση κοινοδρόμησης: η εξίσωση της κοινότητας ή απλά από την οποία συχνοποιούνται τα οποία συσχετισμένων μεταβλητών

γραμμική συσχέτιση → γραμμική κοινοδρόμηση → εξίσωση ευθείας κοινοδρόμησης

καμπυλόγραμμη συσχέτιση → καμπυλόγραμμη κοινοδρόμηση → εξίσωση κοινοδρόμησης (δυναμικό)

Συντελεστής συσχέτισης: αριθμός που δείχνει πόσο συνδέονται οι τιμές των δύο μεταβλητών.

Γραμμική Συσχέτιση

Συντελεστής συσχέτισης = Συντελεστής Pearson = r

$$r = \frac{\text{Cor}(X, Y)}{S_x \cdot S_y}$$


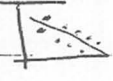
όπου S_x, S_y : συντελεστές ανομοιογένειας

$$\text{Cor}(X, Y) = \frac{\sum (x_i - \bar{x})(y_i - \bar{y})}{n}$$

συνδιακύβανση

Correlation

Συμπεράσματα

- Ο r είναι ανεξάρτητος από μονάδες μέτρησης
- Ο r είναι αξιόμοτος μόνο στη γραμμική συσχέτιση (στην καθημερινή ζωή χρησιμοποιούμε άλλο συντελεστή)
- $-1 \leq r \leq 1$
- Αν $r > 0$ τότε έχουμε θετική γραμμική συσχέτιση (αύξουσα) 
- Αν $r < 0$ τότε έχουμε αρνητική γραμμική συσχέτιση (αφθίνουσα) 
- Αν $|r|$ είναι από 0 έως 0,2 έχουμε ασθενή συσχέτιση
από 0,2 έως 0,4 έχουμε μέτρια συσχέτιση
από 0,4 έως 0,7 έχουμε ενδιάμεση συσχέτιση
από 0,7 έως 1 έχουμε ισχυρή συσχέτιση

Μόνο στην ισχυρή μπορούμε να βρούμε ευθεία με μικρό ποσοστό λάθους

- Ο r αναφέρεται στο δείγμα

Συντελεστής pearson r: αναφέρεται στο δείγμα (υπολογίζεται αριθμικά)
βαθμός συσχέτισης ρ: αναφέρεται στον πληθυσμό (έλεγχος υπόθεσης)

$H_0: \rho = 0$ κ' $H_1: \rho \neq 0$, δηλαδή αμφίπλευρος έλεγχος (γίνεται χρήση των δύο
 αουβχέυωα ουβχέυωίενα των κατανομή t)

Υπολογίζουμε $t = \frac{r}{\sqrt{\frac{1-r^2}{n-2}}}$ και συγκρίνουμε με $t_{n-2, \alpha/2}$

▲ Αν μας ενδιαφέρει αν έχουμε θετική ή αρνητική συσχέτιση κάνω μονόπλευρο
 έλεγχος $H_0: \rho = 0$ κ' $H_1: \rho > 0$ (θετική) $H_0: \rho = 0$ κ' $H_1: \rho < 0$ (αρνητική)

nr. μας ενδιαφέρει αν έχουμε θετική συσχέτιση.

Υπάρχει $t = \frac{r}{\sqrt{\frac{1-r^2}{n-2}}}$ και συγκρίνω με $t_{n-2, \alpha}$

Παράδειγμα

Από ένα δείγμα μεγέθους $n=8$ βρήκαμε συντελεστή pearson = -0,83. Να
 ελεγχθεί σε επίπεδο σημαντικότητας 5% αν υπάρχει γραμμική συσχέτιση μεταξύ
 των δύο μεταβλητών x και y να προσδιοριστεί το είδος της

Λύση

$n=8, r=-0,83$

1) Υπάρχει γραμμική συσχέτιση?

$H_0: \rho = 0$ κ' $H_1: \rho \neq 0$ $t = \frac{r}{\sqrt{\frac{1-r^2}{n-2}}} = \frac{-0,83}{\sqrt{\frac{1-(-0,83)^2}{8-2}}} = -3,656$

$t_{n-2, \alpha/2} = t_{6, 0.025} = 2,447$
 $\begin{array}{c} -3,656 \\ \hline -2,447 \quad 2,447 \end{array}$

Άρα απορρίπτουμε την H_0 , δηλαδή υπάρχει γραμμική συσχέτιση.

2) Επειδή ο συντελεστής pearson είναι αρνητικός υποψιάζομαι πως έχουμε αρνητική συσχέτιση

$H_0: \rho = 0$ κ' $H_1: \rho < 0$

$t = -3,656$ και $t_{n-2, \alpha} = t_{6, 0.05} = 1,943$
 $\begin{array}{c} -3,656 \\ \hline -1,943 \end{array}$

Άρα απορρίπτουμε H_0 , δηλαδή έχουμε αρνητική γραμμική συσχέτιση.

Αν ο pearson είναι εκτός ορίων δηλαδή μεγαλύτερος του 1 ή μικρό-
 τερος από το -1 , έχω κάνει λάθος πράξη.

Ανάλυση Γραμμικού Κατανομή

Έχουμε δύο μεταβλητές X, Y

• Πρέπει να βρω ποια είναι η λογική σχέση μεταξύ των δύο μεταβλητών
δηλαδή να αποφασίσω ποια μεταβλητή εξαρτάται από την άλλη.

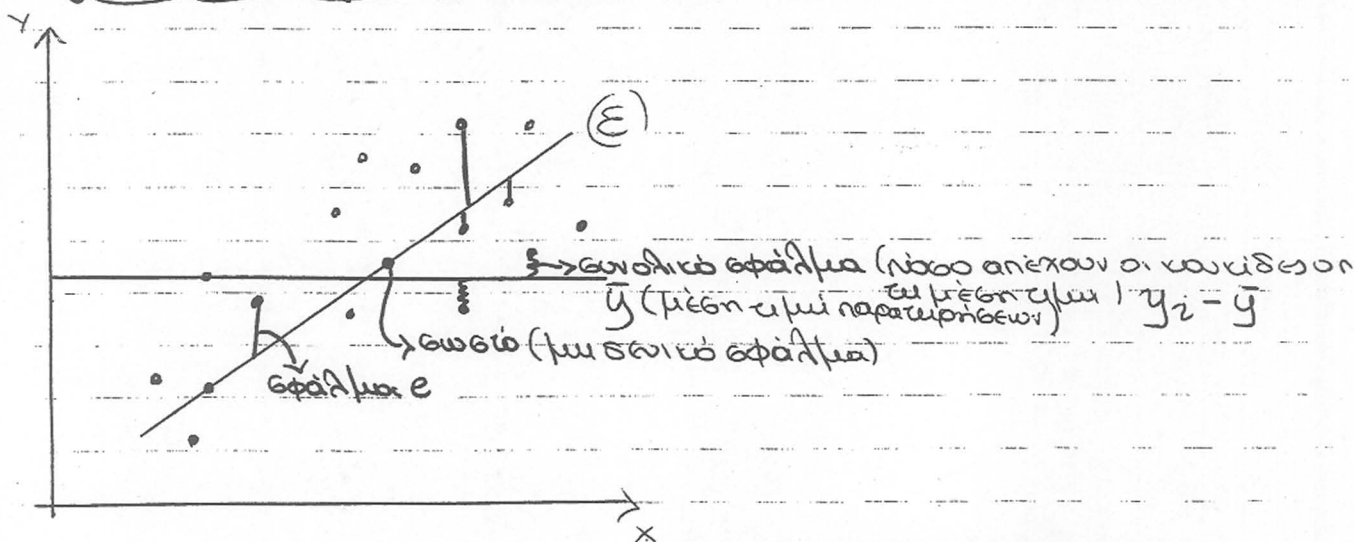
Πχ 1. Με ενδιαφέρει η σχέση μεταξύ των διαφημιστικών δαπανών μιας εταιρείας και των πωλήσεών της. Οι πωλήσεις εξαρτάται από τις δαπάνες με διαφήμιση

2. Με ενδιαφέρει η σχέση μεταξύ του εισοδήματος των καταναλωτών και η κατανομή ενός προϊόντος. Η κατανομή εξαρτάται από το εισόδημα

X : ανεξάρτητη μεταβλητή \rightarrow οριζόντιο άξονα

Y : εξαρτημένη μεταβλητή \rightarrow κατακόρυφο άξονα

Στο διάγραμμα διασποράς επιθυμείται να δείξω πόσο καλά καταλαβαίνω τις μεταβλητές στον άξονα. Αντίθετα στην παλινδρόμηση **ΟΠΕΣΑΗΠΟΤΕ** καταλαβαίνω την ανεξάρτητη στον άξονα X και την εξαρτημένη στον άξονα Y .



• Ψάχνουμε την "καλύτερη" (E) . Έστω $(E): y = b_1 x + b_0$

κριτήριο: θέλω να ελαττωσω το άθροισμα των σφαλμάτων, δηλαδή οι αποκλίσεις από τα πραγματικά σημεία.

σφάλμα = $e = y - \hat{y}_i$ \rightarrow παρατήρηση
 τόσο απέχει η ευθεία - των πραγματικών τιμών = e
 κάποια σφάλματα είναι θετικά, κάποια είναι αρνητικά και κάποια είναι μηδέν. Για να μην έχω πρόβλημα με τα πρόσημα υπολογίζουμε τα τετράγωνα των σφαλμάτων και προσπαθούμε να ελαττωσουμε το άθροισμά τους (μέθοδος ελαττώσεων τετραγώνων).

$SSE = \text{sum square errors} = \text{άθροισμα τετραγώνων σφαλμάτων} = \sum e^2 = \sum (y - \hat{y})^2$
 $= \sum y_i^2 - b_0 \cdot \sum y_i - b_1 \cdot \sum (x_i y_i)$

Διασπορά εσφαλμάτων $S_e^2 = \frac{SSE}{n-2}$

SST = sum square total errors = άθροισμα τετραγώνων συνολικών εσφαλμάτων =
 $= \sum (y_i - \bar{y})^2 = \sum y_i^2 - \frac{(\sum y_i)^2}{n}$

• Συντελεστής προσδιορισμού $R^2 = 1 - \frac{SSE}{SST}$

• $0 \leq R^2 \leq 1$

• Ο R^2 μετράει την προσαρμοστικότητα του μοντέλου.

→ Αν $R^2 \rightarrow 1$ τότε έχουμε καλή προσαρμογή

→ Αν $R^2 \rightarrow 0$ τότε δεν έχουμε καλή προσαρμογή

• Στην αντή γραμμική παλινδρόμηση ισχύει $R^2 = r^2$

• Υπολογισμός ευθείας

$b_1 =$ συντελεστής διεύθυνσης της ευθείας = συντελεστής παλινδρόμησης
 $= \frac{n \cdot \sum x_i \cdot y_i - \sum x_i \cdot \sum y_i}{n \cdot \sum x_i^2 - (\sum x_i)^2}$

Γενική Εμπειρία (των προσαρμογών στην Αγορά)

Ευχαρίστη να δοθεί μεταβληθεί η τιμή της εξαρτημένης μεταβλητής εάν η ανεξάρτητη μεταβληθεί κατά μία μονάδα.

$b_0 = \bar{y} - b_1 \cdot \bar{x}$

Γενική Εμπειρία

Ευχαρίστη την τιμή της εξαρτημένης μεταβλητής όταν η ανεξάρτητη μεταβληθεί

• Έλεγχος σημαντικότητας για το b_1

$H_0: b_1 = 0$ $H_1: b_1 \neq 0$

{οχι τιμή του b_1 αλλά ο χαρακτηριστικός του ως σημαντικός ή όχι}

Δε είναι σημαντικό είναι σημαντικό

Υπολογίζουμε $t = \frac{b_1}{S_{b_1}}$ όπου

$$S_{b_1} = \frac{\sqrt{\frac{SSE}{n-2}}}{\sqrt{\frac{\sum x_i^2 - (\sum x_i)^2}{n}}}$$

και συγκρίνουμε με $t_{n-2, \alpha/2}$

• Απόλυτα εμπιστοσύνης για το b_1

$$[b_1 - S_{b_1} \cdot t_{n-2, \alpha/2}, b_1 + S_{b_1} \cdot t_{n-2, \alpha/2}]$$

Άσκηση

Δίνονται τα έσοδα για διαφήμιση και οι αντίστοιχες πωλήσεις μιας επιχείρησης. Δεκα χρόνια (οι πωλήσεις εγγραίνονται αντί τη διαφήμιση άρα διαφήμιση = x και πωλήσεις = y). Τα έσοδα δίνονται σε χιλιάδες ευρώ και οι πωλήσεις σε τόνους.

- 1) Να βρεθεί η αυξία παλινδρόμησης, να υπολογιστεί και να ερμηνευτεί τους συντελεστές του μοντέλου.
- 2) Να γίνει έλεγχος για τη στατιστική σημαντικότητα του συντελεστή παλινδρόμησης.
- 3) 95% Δ.Ε για το συντελεστή παλινδρόμησης.
- 4) Να υπολογιστεί και να ερμηνευθεί ο συντελεστής προσδιορισμού R^2 .
- 5) Να υπολογιστεί ο συντελεστής συσχέτισης και να γίνει έλεγχος για τη στατιστική σημαντικότητα.

x_i	y_i	$x_i \cdot y_i$	x_i^2	y_i^2	Λύση
6	50	300	36	2500	$b_1 = \frac{n \cdot \sum x_i \cdot y_i - \sum x_i \cdot \sum y_i}{n \cdot \sum x_i^2 - (\sum x_i)^2} = \frac{10 \cdot 2612 - 50 \cdot 500}{10 \cdot 272 - (50)^2}$ $= \frac{26120 - 25000}{2720 - 2500} = \frac{1120}{220} = 5,09$ $b_0 = \bar{y} - b_1 \cdot \bar{x} = \frac{\sum y_i}{n} - b_1 \cdot \frac{\sum x_i}{n}$ $= \frac{500}{10} - 5,09 \cdot \frac{50}{10} = 24,55$ Άρα (Ε): $y = 5,09x - 24,55$
4	46	184	16	2116	
5	55	275	25	3025	
6	60	360	36	3600	
3	44	132	9	1936	
4	41	164	16	1681	
5	45	225	25	2025	
3	38	114	9	1444	
6	55	330	36	3025	
8	66	528	64	4356	
50	500	2612	272	25708	

Θεωρώ ο συντελεστής του x άρα αυξήματα άρα έχουμε θετική γραμμική συσχέτιση.

b_1 : Αν τα έσοδα για διαφήμιση αυξηθούν κατά 1000€ αναμένουμε οι πωλήσεις να αυξηθούν κατά 5,09 τόνους.

b_0 : Αν τα έσοδα για διαφήμιση μηδενιστούν οι πωλήσεις αναμένονται να είναι 24,55.

2) Έλεγχος σημαντικότητας για το b_1

$H_0: b_1 = 0$ είναι μηδενικός c $H_1: b_1 \neq 0$ είναι μηδενικός

$$t = \frac{b_1}{S_{b_1}} = \frac{5,09}{0,88} = 5,78 \quad t_{n-2, \alpha/2} = t_{8, 0,025} = 2,306$$

όπου

$$S_{b_1} = \frac{\sqrt{SSE}}{\sqrt{\sum x_i^2 - (\sum x_i)^2 / n}} = \frac{\sqrt{\frac{137,99}{8}}}{\sqrt{\frac{272 - 250}{10}}} = \frac{\sqrt{17,24}}{\sqrt{2,2}} = \frac{\sqrt{17,24}}{1,48} = \frac{4,15210}{2,86} = 1,45$$

$$SSE = \sum y_i^2 - b_0 \cdot \sum y_i - b_1 \cdot \sum x_i y_i = 25708 - 24,55 \cdot 500 - 5,09 \cdot 2612 = 25708 - 12275 - 13295,08 = 137,92$$

Άρα απορρίπτουμε H_0 , δηλαδή ο συντελεστής b_1 είναι στατιστικά σημαντικός.

$$3) 35\% \Delta E \rightarrow [b_1 - S_{b_1} \cdot t_{n-2, \alpha/2}, b_1 + S_{b_1} \cdot t_{n-2, \alpha/2}] =$$

$$= [5,09 - 0,88 \cdot 2,306, 5,09 + 0,88 \cdot 2,306] =$$

$$= [5,09 - 2,02928, 5,09 + 2,02928] =$$

$$= [3,06, 7,12]$$

Ερμηνεία

Με 95% πιθανότητα αυξηθούμε κατά 1000€ τα έσοδα για διαφήμιση, οι πωλήσεις θα μεταβληθούν από 3 έως 7 τόνους (χοντριά).

$$4) R^2 = 1 - \frac{SSE}{SST} = 1 - \frac{13792}{708} = 1 - 0,1948 = 0,81$$

$$SST = \sum y_i^2 - \frac{(\sum y_i)^2}{n} = 25708 - \frac{500^2}{10} = 25708 - 25000 = 708$$

Ερμηνεία

Τα διαφημιστικά έσοδα επηρεάζουν κατά 81% τις πωλήσεις.

$$5) r^2 = R^2 \Rightarrow r = +\sqrt{0,81} \Rightarrow r = 0,9$$

H_0 : δεν είναι σημαντικό r | H_1 : είναι σημαντικό

$$t = \frac{r}{\sqrt{\frac{1-r^2}{n-2}}} = \frac{0,9}{\sqrt{\frac{1-0,9^2}{10-2}}} = \frac{0,9}{\sqrt{\frac{0,19}{8}}} = \frac{0,9}{\sqrt{0,02375}} = \frac{0,9}{0,1541} = 5,84$$

$$\begin{array}{c} \text{5,84} \\ \swarrow \quad \searrow \\ -2,306 \quad 2,306 \end{array}$$

Λαμβάνουμε την H_0 άρα ο συντελεστής pearson είναι στατιστικά σημαν

Άσκηση I

Μια εταιρεία κινητής τηλεφωνίας προσημασιεί πωλητές που επισκέπτονται τα σπίτια προκειμένου να αυξηθούν οι συνδρομητές της. Ο αριθμός των πωλητών οι οποίοι πωλούν νέοι συνδρομητές σε διάστημα 8 εβδομάδων είναι:

πωλητές: 1, 4, 2, 6, 1, 3, 5, 2 συνδρομητές: 12, 16, 15, 18, 10, 17, 16, 13

- Να προσδιοριστεί η βέλτη γραμμική παλινδρόμηση και να ερμηνευτούν οι συντελεστές του μοντέλου
- Να γίνει έλεγχος στατιστικής σημαντικότητας και να κατασκευαστεί 95% Διάστημα Εμπιστοσύνης για τον συντελεστή παλινδρόμησης
- Να υπολογιστεί και να ερμηνευτεί ο συντελεστής προσδιορισμού
- Να υπολογιστεί ο συντελεστής συσχέτισης και να γίνει έλεγχος στατιστικής σημαντικότητας με $\alpha = 1\%$
- Να υπολογιστεί το υπόλοιπο του μοντέλου για την 2^η εβδομάδα και να ερμηνευτεί.

στ) Αν η εταιρεία διαθέσει 10 πωλητές, πόσοι προβλέπεται να είναι οι νέοι συνδρομητές?

Λύση

x	y	x · y	x ²	y ²	πρόβλεψη	υπόλοιπο
1	12	12	1	144		
4	16	64	16	256	16	0
2	15	30	4	225	13	+2
6	18	108	36	324		
1	10	10	1	100		
3	17	51	9	289		
5	16	80	25	256		
2	13	26	4	169		
24	117	381	96	1763		

$$a) \beta_1 = \frac{n \cdot \sum x_i y_i - \sum x_i \sum y_i}{n \cdot \sum x_i^2 - (\sum x_i)^2} = \frac{8 \cdot 381 - 24 \cdot 117}{8 \cdot 96 - 24^2} = \frac{240}{192} = 1,25$$

$$\beta_0 = \bar{y} - \beta_1 \cdot \bar{x} = \frac{\sum y_i}{n} - \beta_1 \cdot \frac{\sum x_i}{n} = \frac{117}{8} - 1,25 \cdot \frac{24}{8} = 10,875$$

Άρα $y = 1,25x + 10,875$ βέλτη γραμμική συσχέτιση

Ερμηνεία

β_1 : Αν οι πωλητές αυξάνουν κατά 1.100 = 1000 συνδρομητές αναμένεται να αυξηθούν κατά 1,25.100 = 125

β_0 : Όταν οι πωλητές μειωθούν, τότε αναμένεται οι συνδρομητές να είναι 11 (επιπροσδιορίζεται του 10,875)

Επειδή πρόκειται για συνδυασμό κώνω μετατροπή στο $\times 100$

β) Έλεγχος ομιοσκετικότητας για $\omega \beta_1$: Ηο δίνει ομιοσκετικότητα H_0 : είναι ομιοσκετικότητα

$$t = \frac{\beta_1 - 1,26}{0,32} = 3,9$$

$$S_{\beta_1} = \frac{\sqrt{SSE}}{\sqrt{\sum x_i^2 - \frac{(\sum x_i)^2}{n}}} = \frac{\sqrt{\frac{14,96}{6}}}{\sqrt{96 - \frac{24^2}{8}}} = \frac{\sqrt{2,4933}}{\sqrt{24}} = \frac{1,5790}{4,8989} = 0,32$$

$$SSE = \sum y_i^2 - b_0 \sum y_i - b_1 \sum x_i y_i = 1763 - 10,87 \cdot 117 - 1,25 \cdot 381 = 14,96$$

$-2,447$ $2,447 = t_{n-2, \alpha/2}$ Αν ομοτιω των Ηο. Άρα οβ₁ είναι στατιστικά ομιοσκετικότητα
 $t_{6, 0,025} = 2,447$

$$95\% \Delta \epsilon \text{ για } \omega \beta_1 = [\beta_1 - S_{\beta_1} \cdot t_{n-2, \alpha/2}, \beta_1 + S_{\beta_1} \cdot t_{n-2, \alpha/2}] = [1,25 - 0,32 \cdot 2,447, 1,25 + 0,32 \cdot 2,447] = [0,47, 2,03]$$

Ερμηνεία: Με βεβαιότητα 95% αν αυξηθούν οι ωάντες κατά 100, θα μεταβληθούν οι συνδρομές από 47 μέχρι 203

γ) Συντελεστής προσδιορισμού $R^2 = 1 - \frac{SSE}{SST} = 1 - \frac{14,96}{51,875} = 0,72$

$$SST = \sum y_i^2 - \frac{(\sum y_i)^2}{n} = 1763 - \frac{(117)^2}{8} = 51,875$$

Ερμηνεία: Το νόσοι συνδρομές θα μου έρθουν ελαφρώς από τον νόσο ωάντες έχω κατά 72%

δ) Συντελεστής συσχέτισης $r = \sqrt{R^2}$ Άρα $r = \sqrt{0,72} = 0,848$

Ερμηνεία: Ισχυρή θετική συσχέτιση ανάμεσα στον αριθμό των συνδρομητών και ωάντων

Έλεγχος στατιστικά ομιοσκετικότητας κατά 1%

Ηο βαθμίο ομιοσκετικότητας = 0 κ' Η1: βαθμίο ομιοσκετικότητας $\neq 0$

$$t = \frac{r}{\sqrt{\frac{1-r^2}{n-2}}} = \frac{0,848}{\sqrt{\frac{1-0,848^2}{6}}} = \frac{0,848 \cdot \sqrt{6}}{\sqrt{1-0,848^2}} = 3,9$$

$-3,707$ $3,707$
 $t_{n-2, \alpha/2}$

$\alpha = 0,01 \rightarrow t_{6, 0,005} = 3,707$ Άρα απορρίπτω των Ηο. Είναι οριστικά ομιοσκετικότητα να χρησιμοποιήσω το μοντέλο για την πρόβλεψη

ε) Την 2^η εβδομάδα έχω 4 ωάντες και 16 συνδρομές. Άρα με βάση το μοντέλο $y = 1,25 \cdot 4 + 10,87 = 15,87 \approx 16$ Άρα η πραγματική τιμή με την πρόβλεψη συμπίπτει. Για την 3^η εβδομάδα η πραγματικότητα είναι καλύτερη από την πρόβλεψη

στ) Επειδή οι συντελεστές ήταν στατιστικά σημαντικοί μπορού να κάνω πρόβλ (απόλυτο) $y = 1,25 \cdot 10 + 10,87 = 23,37 \approx 23$

Αν διαθέσω 10 ωάντες αναμένεται να έχω 23 συνδρομές.

Άσκηση II

Μια εταιρεία κατασκευάζει διακοσμητικά μαρμάρινα Ούρες που τα μαρμάρινα τα φουσκωμένα αυθαυδών κανονικά κατανομή με $\sigma = 12$

α) Από ένα τυχαίο δείγμα 100 μαρμαρινών βρέθηκαν ότι παραμένουν φουσκωμένα για 155 ώρες. Σε επίπεδο σημαντικότητας 5% να ελεγχθεί η υπόθεση ο μέσος χρόνος που τα μαρμάρινα παραμένουν φουσκωμένα είναι μικρότερο από 160 ώρες

β) Σε ένα τυχαίο δείγμα 300 μαρμαρινών βρέθηκαν 15 ελάττωματικά. Ελεγχθεί με $\alpha = 5\%$ η υπόθεση ότι το 3% των παραγωγών είναι ελάττωματικά προϊόντα

Λύση

α) $H_0: \mu = 160$ vs $H_1: \mu < 160$

Έχω μεγάλο δείγμα και κανονικότητα με γνωστή διασπορά. Άρα διχρησιμοποιώ Z κατανομή.

πληθυσμός: κανονικότητα, $\sigma = 12$

Δείγμα: $n = 100$, $\bar{x} = 155$ επίπεδο σημαντικότητας $\alpha = 5\%$

$$Z = \frac{\bar{x} - \mu}{\frac{\sigma}{\sqrt{n}}} = \frac{155 - 160}{\frac{12}{\sqrt{100}}} = \frac{-5}{1,2} = -4,16$$

$$\alpha = 0,05 \quad 1 - \alpha = 0,95 \quad Z_{0,95} = 1,64$$

Άρα απορρίπτω την H_0 Οπότε τα μαρμάρινα παραμένουν φουσκωμένα λιγότερα από 160 ώρες

β) πληθυσμός: κανονικότητα, $\sigma = 12$

Δείγμα: $n = 300$, ελάττωματικά = 15

$$\text{ποσοστό δείγματος} \hat{p} = \frac{15}{300} = 0,05$$

Ελεγχος $H_0: p = 0,03$ vs $H_1: p \neq 0,03$

Μεγάλο δείγμα $\Rightarrow Z$ -τιμή

$$Z = \frac{\hat{p} - p}{\sqrt{\frac{p(1-p)}{n}}} = \frac{0,05 - 0,03}{\sqrt{\frac{0,03 \cdot 0,97}{300}}} = \frac{0,02 \cdot \sqrt{300}}{\sqrt{0,03 \cdot 0,97}} = 2,03$$

$$\alpha = 0,05 \quad \alpha/2 = 0,025 \quad 1 - \alpha/2 = 0,975$$

$$Z_{0,975} = 1,96$$

$$-1,96 \quad 1,96$$

Άρα απορρίπτω την H_0 Άρα το ποσοστό ελάττωματικών μαρμαρινών θα είναι 3%